


ರಾಮನ ಬಿಟ್ಟು

A ವ್ಯತ್ಯಾಸ ಗುರುತಿಸಿ

ಈ ಎರಡು ಚಿತ್ರಗಳಲ್ಲಿ ಒಟ್ಟು ಆರು ವ್ಯತ್ಯಾಸಗಳಿವೆ. ಗುರುತಿಸಬಲ್ಲೀರಾ?




B ರಸ್ತೆಯನ್ನು ಹೆಸರಿಸಿ

ಬೆಟ್ಟಗಳಲ್ಲಿ ಹಾದು ಹೋಗಿ ಅಷ್ಟಾನಿಸ್ತಾನ ಮತ್ತು ಪಾಕಿಸ್ತಾನಗಳನ್ನು ವಿಭಜಿಸುವ ಖ್ಯಾತ ರಸ್ತೆ ಇದು. ಯಾವುದೆಂದು ಹೆಸರಿಸುವಿರಾ?

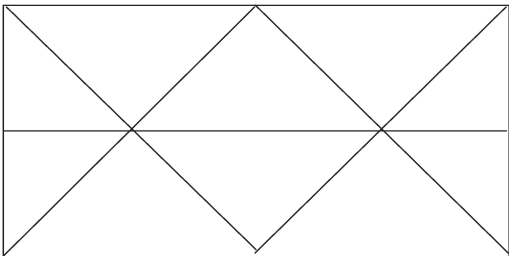


D ಕೊನೆಯ ವ್ಯತ್ಯವನ್ನು ತುಂಬುವುದು ಹೇಗೆ?



C ಮ್ಯಾಜಿಕ್ ಗಣಿತ!

ಕೆಳಗಿನ ಚಿತ್ರದಲ್ಲಿ ಒಟ್ಟು ಎಷ್ಟು ತ್ರಿಕೋನಗಳಿವೆ? ಎಣಿಸಿ ಹೇಳಿ ನೋಡೋಣ.



ಉತ್ತರಗಳು



.....(ಇ) 81(ಇ)

ಮಾಣಿ (ಇ)

6. (ಇ) ನಾಲ್ಕು ಸುಟ್ಟುಗಳಿವೆ.

5. (ಇ) ಒಂದು ಸುಟ್ಟು ಮತ್ತು ಒಂದು ಸುಟ್ಟುಗಳಿವೆ.

4. (ಇ) ಎರಡು ಸುಟ್ಟುಗಳಿವೆ.

3. (ಇ) ಎರಡು ಸುಟ್ಟುಗಳಿವೆ.

2. (ಇ) ಒಂದು ಸುಟ್ಟು ಮತ್ತು ಒಂದು ಸುಟ್ಟುಗಳಿವೆ.

1. (ಇ) ಎರಡು ಸುಟ್ಟುಗಳಿವೆ.