


ಕಾಡುನ ಬಿಲ್ಲು


A ಮಿಕ್ಸ್ - ಅಪ್!

ಈ ಹಕ್ಕಿಯ ಚಿತ್ರದಲ್ಲಿ ಒಟ್ಟು ನಾಲ್ಕು ಹಕ್ಕಿಗಳ ದೇಹದ ವಿವಿಧ ಭಾಗಗಳು ಸೇರಿವೆ. ಅವು ಯಾವ್ಯಾವ ಹಕ್ಕಿಗಳದ್ದು ಎಂದು ಗುರುತಿಸಬಲ್ಲಿರಾ..?



1. ತಲೆ -----
2. ದೇಹ -----
3. -----
4. ಬಾಲ -----

D ಈ ಕೆಳಗಿನ ಬಿಡಿ ಬಿಡಿ ಚಿತ್ರಗಳನ್ನು ಜೋಡಿಸಿ ಇದು ಯಾವ ಪ್ರಾಣಿ ಎಂದು ಗುರುತಿಸಿ.



B ಸಂಖ್ಯಾ ಸ್ವರಸ್ಯ

1. ಕೆಳಗಿನ ಸಂಖ್ಯಾಪಟ್ಟಿಯಲ್ಲಿ ಕೊನೆಗೆ ಬಿಟ್ಟಿರುವ ಪ್ರಶ್ನೆಗೆ ಉತ್ತರ ಎಷ್ಟು..?

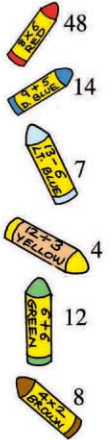
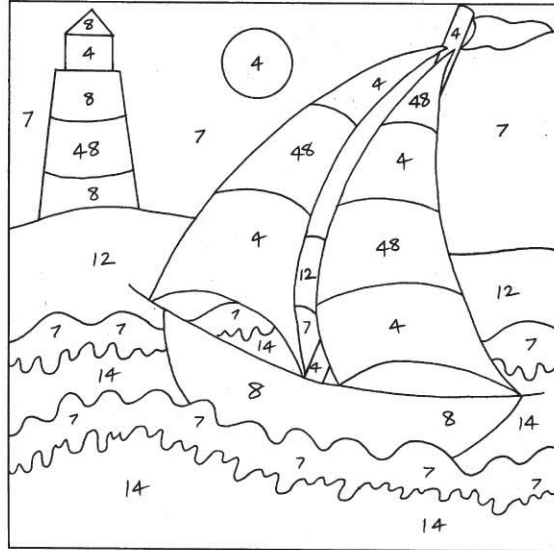
4	9	15	22	?
---	---	----	----	---

2. ಹಾಜರಿ ಪಡೆಯುವಾಗ ಗಣಿತ ಮಿಸ್‌ಗೆ ಅಂದಿನ ಕ್ಲಾಸ್‌ನಲ್ಲಿ ಮಕ್ಕಳನ್ನು ತಬ್ಬಿ ಬ್ಬು ಗೊಳಿಸುವ ತವಕ. ಮಕ್ಕಳ ರೋಲ್ ನಂ. ಕರೆಯುವಾಗ ಒಗಟು ಒಗಟಾಗಿ ಕರೆದರು. - ಈ ರೋಲ್ ನಂ ಎಂದರೆ ಒಂದು ಮೊತ್ತದ ಐದು ಪಟ್ಟು ಹೆಚ್ಚು ಇರುವ ಅಂಕೆ.. ಅದು ಯಾವುದು..?




C ಚಿತ್ರಕ್ಕೆ ಬಣ್ಣ ಹಾಕಿ

ಇಲ್ಲಿ ಕೊಟ್ಟಿರುವ ಚಿತ್ರಕ್ಕೆ ಅಂಕೆ ಪ್ರಕಾರ ಕ್ರಮಬದ್ಧ ವಾಗಿ ಬಣ್ಣ ಹಾಕಿ.



ಉತ್ತರಗಳು



1. 30. Add consecutive numbers after 4.
Thus, 4 + 5 = 9, 9 + 6 = 15, 15 + 7 = 22, 22 + 8 = 30.
2. 45. Let the digit in the tens place be x and that in the units place be y. Thus, the number is 10x+y and the sum of its digits is x+y.
 $10x+y = 5(x+y)$
 $5x = 4y$
 $\frac{x}{4} = \frac{y}{5}$
y = 5
Comparing both sides, we get x = 4 and y = 5. The number is 45.

A. 1. ರಂಜಿತ್, 2. ಕೋಲ, ಕೆನ್, 4. ಅಪ್ಪಿ