




ಕಾಡುನ ಬಿಲ್ಲು


ಎ ಸೂರ್ಯನ ಸುತ್ತ ಇರುವ ಗ್ರಹಗಳು

ಗ್ರಹಗಳು ಸೂರ್ಯನ ಸುತ್ತ ಸುತ್ತುತ್ತವೆ. ಇದನ್ನು ಗಮನದಲ್ಲಿಟ್ಟುಕೊಂಡು ಕೆಳಗಿನ ಪ್ರಶ್ನೆಗೆ (ಮೂರನೇ ಸಾಲಿನಲ್ಲಿರುವ) ಉತ್ತರಿಸಿ ನೋಡೋಣ.

 = 2

 = 9

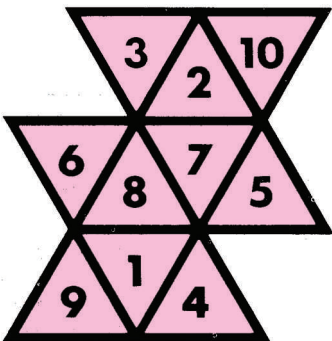
 = ?

 = 6

 = 2

ಸಿ ತ್ರಿಕೋನ ಸ್ವಾರಸ್ಯ..!

ಕೆಳಗಿನ ಚಿತ್ರದಲ್ಲಿ ನಾಲ್ಕು ದೊಡ್ಡ ತ್ರಿಕೋನ ಮತ್ತು 10 ಚಿಕ್ಕ ತ್ರಿಕೋನಗಳಿವೆ. ಪ್ರತೀ ದೊಡ್ಡ ತ್ರಿಕೋನದಲ್ಲಿ ನಾಲ್ಕು ಚಿಕ್ಕ ತ್ರಿಕೋನಗಳಿವೆ. ಹಾಗಾದರೆ ಇಲ್ಲಿ ಒಟ್ಟು ಎಷ್ಟು ತ್ರಿಕೋನಗಳು ಇದ್ದ ಹಾಗಾಯಿತು..?



ಬಿ ಕೆಳಗಿನ ಎರಡು ಚಿತ್ರಗಳಲ್ಲಿರುವ ವ್ಯತ್ಯಾಸ ಗುರುತಿಸಿ

1




2



ಸಿ ತ್ರಿಕೋನ ಸ್ವಾರಸ್ಯ..!


ಕೆಳಗಿನ ಚಿತ್ರದಲ್ಲಿ ನಾಲ್ಕು ದೊಡ್ಡ ತ್ರಿಕೋನ ಮತ್ತು 10 ಚಿಕ್ಕ ತ್ರಿಕೋನಗಳಿವೆ. ಪ್ರತೀ ದೊಡ್ಡ ತ್ರಿಕೋನದಲ್ಲಿ ನಾಲ್ಕು ಚಿಕ್ಕ ತ್ರಿಕೋನಗಳಿವೆ. ಹಾಗಾದರೆ ಇಲ್ಲಿ ಒಟ್ಟು ಎಷ್ಟು ತ್ರಿಕೋನಗಳು ಇದ್ದ ಹಾಗಾಯಿತು..?

ಡಿ ಬುದ್ಧಿ ಗೆ ಗುದ್ದು



ಐದು ಸೆಕೆಂಡುಗಳಲ್ಲಿ ಒಟ್ಟು ಮೂರು ಅಂಕಗಳನ್ನು ನೆನೆಸಿಕೊಳ್ಳಿ. ಇದನ್ನು ಕೂಡಿಸಿದರೂ, ಗುಣಿಸಿದರೂ ಉತ್ತರ ಒಂದೇ ಆಗಿರುತ್ತದೆ. ಯಾವುದು ಆ ಅಂಕಗಳು..?

ಉತ್ತರಗಳು



(ಇ) 1, 1 ಮತ್ತು 2
(ಉ) ಒಟ್ಟು 22 ತ್ರಿಕೋನಗಳಿವೆ.
(ಊ) 9 = 3x3 = 1x2x3 = 6

1. ಸಂಖ್ಯೆಗಳ ಸಂಯೋಜನೆ
2. ಸಂಖ್ಯೆಗಳ ಸಂಯೋಜನೆ
3. ಸಂಖ್ಯೆಗಳ ಸಂಯೋಜನೆ
4. ಸಂಖ್ಯೆಗಳ ಸಂಯೋಜನೆ
5. ಸಂಖ್ಯೆಗಳ ಸಂಯೋಜನೆ