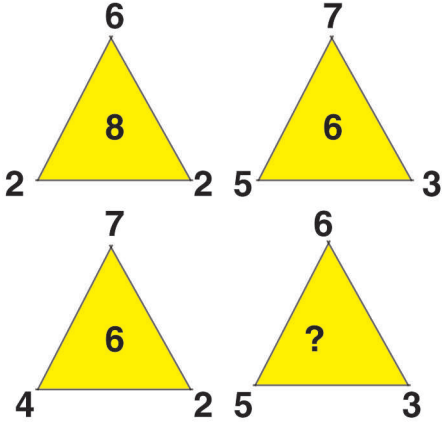


# ಕಾಡುನ ಬಿಲ್ವ

ಎ

## ಸಂಖ್ಯಾ ಸ್ವರಸ್ಯ


ನಾಲ್ಕನೇ ತ್ರಿಕೋನದಲ್ಲಿರುವ ಪ್ರಶ್ನೆಗೆ ಉತ್ತರ ಎಷ್ಟು..?



ಓ


## ಚಿತ್ರಕ್ಕೆ ಬಣ್ಣ ಹಾಕಿ

ಈ ಅಂಕಗಳ ಪ್ರಕಾರ ಈ ಚಿತ್ರಕ್ಕೆ ಬಣ್ಣ ಹಾಕಿ. 1. ಕಡು ನೀಲಿ, 2. ತಿಳಿ ನೀಲಿ, 3. ನೇರಳೆ, 4. ಕಂದು, 5. ಹಳದಿ, 6. ತಿಳಿ ಬೂದು ಬಣ್ಣ.



ಬಿ

## ಗುಂಪಿಗೆ ಸೇರದ್ದನ್ನು ಹೊರಗೆ ಹಾಕಿ



ಡಿ

## ಕೋಳಿ ಮೊಟ್ಟೆ ಲೆಕ್ಕಾಚಾರ

ಕೆಳಗೆ ಕೊಟ್ಟಿರುವ ಕ್ರೋ ಅನ್ನು ಅಧರಿಸಿ ಯಾರು ಮೊಟ್ಟೆ ಯನ್ನು ತಿಂದೇ ಇಲ್ಲ ಎಂಬುದನ್ನು ಹೇಳಿ ನೋಡೋಣ?

1. ಪೇಮ್ ತಿಂದದ್ದರ ಎರಡರಷ್ಟು ರಾಮ್ ತಿಂದ.
2. ಸೀತಾ ತಿಂದದ್ದರ ಡಬಲ್ ಗೆ ಇನ್ನು ಒಂದು ಸೇರಿಸಿ ಅರುಣ್ ತಿಂದ.
3. ಪೇಮ್ ಮತ್ತು ಸೀತಾ ತಿಂದ ಮೊಟ್ಟೆಗಳ ಸಂಖ್ಯೆಯಿಂದ ರಾಮ್ ತಿಂದ ಮೊಟ್ಟೆಗಳನ್ನು ಕಳೆದರೆ ಮೀರಾ ತಿಂದ ಮೊಟ್ಟೆಗಳ ಸಂಖ್ಯೆ ಸಿಗುತ್ತದೆ.
4. ಪೇಮ್ ಮತ್ತು ಮೀರಾ ತಿಂದ ಒಟ್ಟು ಮೊಟ್ಟೆಗಳಿಂದ ಸೀತಾ ತಿಂದ ಮೊಟ್ಟೆಗಳನ್ನು ಕಳೆದರೆ ಜಯಾ ತೆಟ್ಟಿಯಲ್ಲಿದ ಮೊಟ್ಟೆಗಳೆಷ್ಟು ಎನ್ನುವುದು ಗೊತ್ತಾಗುತ್ತದೆ.

## ಉತ್ತರಗಳು

ಊನ (ಇ)

ಜೋ ಎಸ್ತರಾನ್ (ಇ)

'ಜೊಂದೂ ಕೂಲಿ ಸುಧಾಕರ ಪ್ರಿಯ ದುರ್ಯೋಧನು  
ಸಂಯೋಜನೆ ಉಲ್ಲಾಸನ ರಾಜಕೀಯ ಸಂಯೋಜನೆ ಉಲ್ಲಾಸನ  
ಸಂಯೋಜನೆ ಸುಧಾಕರ ದುರ್ಯೋಧನು - ೯ (ಇ)