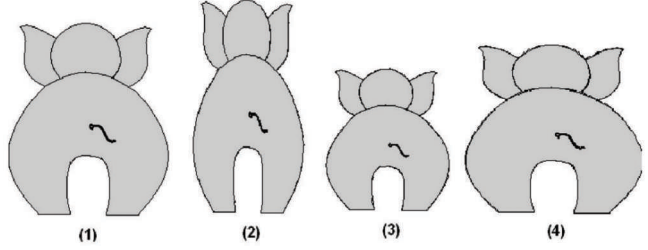


# ಕಾಡುನ ಬಿಲ್ಲು

**B**

## ಆನೆ-ಆಟ

ಇಲ್ಲಿ ಕೊಟ್ಟಿರುವ ಸುಳಿವುಗಳ ಮೂಲಕ ಮ್ಯಾಂಚೋ, ಡಂಚೋ, ಜಂಚೋ ಮತ್ತು ಅಪ್ಪು ಯಾರು ಎಂಬುದನ್ನು ಪತ್ತೆ ಹಚ್ಚಿ.



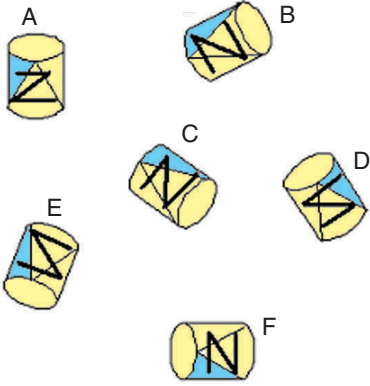
ಸುಳಿವು :

1. ಜಂಚೋ ಮ್ಯಾಂಚೋನಿಗಿಂತ ಕುಳ್ಳಗಿದ್ದರೂ ಅಪ್ಪುಗಿಂತ ಎತ್ತರ.
2. ಎಲ್ಲಕ್ಕಿಂತ ದಪ್ಪ ಆನೆ ಡಂಚೋನ ಪಕ್ಕದಲ್ಲಿರುವುದು.
3. ಎಲ್ಲಕ್ಕಿಂತ ತೆಳ್ಳಗಿರುವ ಆನೆಯ ಮುಂದೆ ಇರುವುದು ಜಂಚೋ.
4. ಅಪ್ಪು ತೆಳ್ಳಗಿಲ್ಲ.

**A**

## ಹೊಂದಿಸಿ

ತದ್ರೂಪು ಜೋಡಿಯನ್ನು ಹೊಂದಿಸಿ



**D**

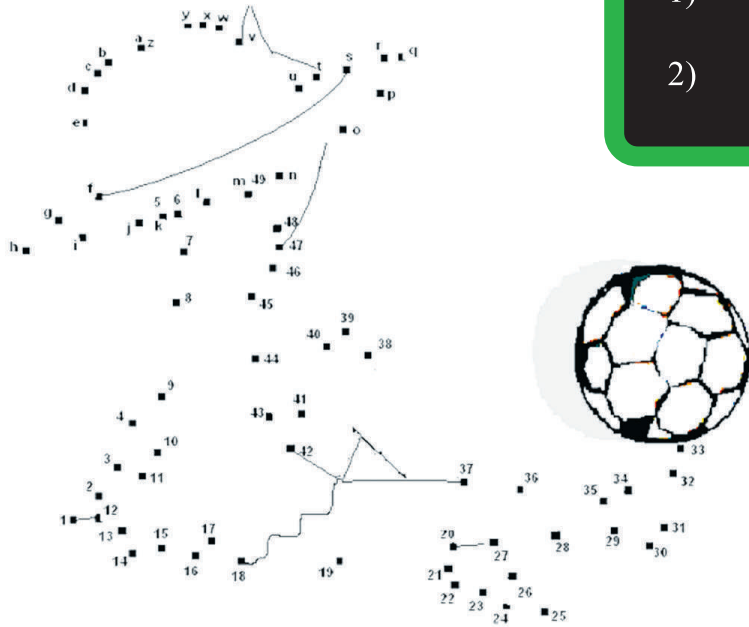
## ಮುಂದೆ ಏನು?

ಬಿಟ್ಟ ಸ್ಥಳ ತುಂಬಿ..

1)	10	18	28	40	?
2)	12	33	54	75	?

**C**

## ಚುಕ್ಕೆ ಸೇರಿಸಿ



ಉತ್ತರಗಳು

- A. A-B, B-C, E-D  
 B. 1. ಜಂಚೋ 2. ಮಾಂಚೋ  
 3. ಡಂಚೋ 4 ಅಪ್ಪು.  
 D. 1) 54 (2x5..3x6..4x7..5x8..6x9..)  
 2) 98 (ಮೊದಲನೇ ಸ್ಥಾನದಲ್ಲಿರುವ ಸಂಖ್ಯೆಗಳು  
 ಅನುಕ್ರಮವಾಗಿ ಬೆಸ ಸಂಖ್ಯೆಗಳು. 1,3,5,7.  
 ಎರಡನೇ ಸ್ಥಾನದಲ್ಲಿರುವ ಸಂಖ್ಯೆಗಳು  
 ಅನುಕ್ರಮವಾಗಿ ಸಂಖ್ಯಾವಾಚಕಗಳು 2,3,4,5)