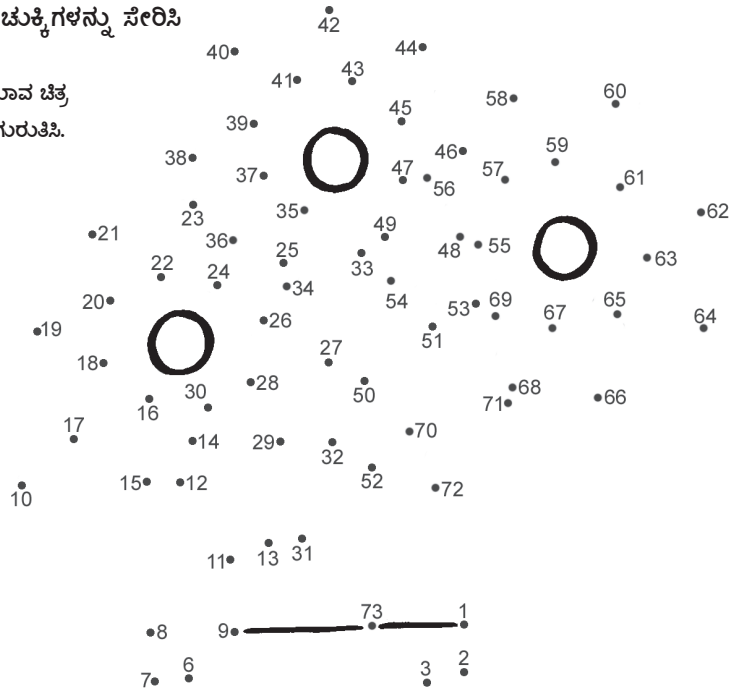





A ಚುಕ್ಕೆಗಳನ್ನು ಸೇರಿಸಿ

ಇದು ಯಾವ ಚಿತ್ರ ಎಂದು ಗುರುತಿಸಿ.




B ಬುದ್ಧಿಗೆ ಗುದ್ದು

ಗೆಲೆಯರ ಗುಂಪು ಒಂದು ಸೈಕಲ್ ಸವಾರಿ ಮಾಡಲು ಹೊರಟಿದೆ. ಇವರಲ್ಲಿ ಒಬ್ಬ ನಾಯಕ. ನಾಲ್ಕು ಹುಡುಗರು ಮುಂದೆ ಸೈಕಲ್ ಸವಾರಿ ಮಾಡಿದರೆ ನಾಲ್ಕು ಹುಡುಗರು ಹಿಂದೆ ಸೈಕಲ್ ಸವಾರಿ ಮಾಡಿದರು. ಒಬ್ಬ ಮಧ್ಯದಲ್ಲಿದ್ದ. ಹಾಗಾದರೆ ಒಟ್ಟು ಎಷ್ಟು ಹುಡುಗರು ಸೈಕಲ್ ಸವಾರಿ ಮಾಡಿದ ಹಾಗಾಯಿತು..?



C ದಾರಿ ಯಾವುದಯ್ಯಾ..?

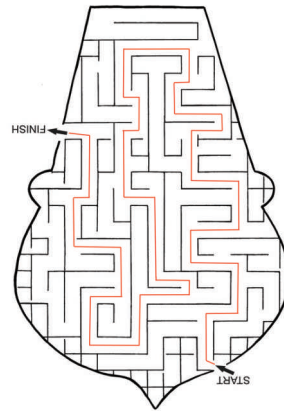
ಇಲ್ಲಿ 'ಸ್ಟಾರ್ಟ್'ನಿಂದ 'ಫಿನಿಷ್'ವರೆಗೆ ಹೋಗುವ ದಾರಿ ಯಾವುದು..? ಪ್ರಯತ್ನಿಸಿ ನೋಡೋಣ..



5
•

4•

ಉತ್ತರಗಳು



೩. ()
೪. ()
೫. ()