


ಕಾಡುನ ಬಿಲ್ಲು

B

ಇಲಿಗಳನ್ನು ಎಣಿಸಿ.


ಈ ಚಿತ್ರದಲ್ಲಿ ಒಟ್ಟು ಎಷ್ಟು ಇಲಿಗಳಿವೆ..? ಲೆಕ್ಕ ಹಾಕಿ.



A

ನೆರಳು ಬೆಳಕಿನಾಟ


ಈ ಕೆಳಗಿನ ಚಿತ್ರಗಳನ್ನು ನೋಡಿ. ಇಲ್ಲಿ ಕೇವಲ ಎರಡು ಚಿತ್ರ ಮಾತ್ರ ಒಂದೇ ತರ ಇದೆ. ಅವು ಯಾವುದು ಗುರುತಿಸಬಲ್ಲೀರಾ..?



C

ಟೆನಿಸ್ ಆಟ..!

ಇಲ್ಲಿ ಎ,ಬಿ, ಸಿ, ಡಿ, ಇ ಇವು ಟೆನಿಸ್ ಹುಡುಗರಲ್ಲಿ ಮೊದಲ ಚಿತ್ರಕ್ಕೆ ಯಾವ ಹುಡುಗ ಸರಿಯಾಗಿ ಹೊಂದಿಕೆ ಆಗುತ್ತಾನೆ..?



ಉತ್ತರಗಳು

೯ (ಇ)
೨೧ (ಬಿ)
೨೬ (ಡಿ)