


ಕಾಡುನ ಬಿಲ್ಲು

A

ಬುದ್ಧಿ ಗೆ ಗುಡ್ಡು


ಎರಡು ಸಾಲುಗಳಲ್ಲಿ ನಾಣ್ಯಗಳನ್ನು ಹೊಂದಿಸಿ ಇಡಲಾಗಿದೆ. ಅವುಗಳಲ್ಲಿ ಎರಡು ನಾಣ್ಯಗಳ ಸ್ಥಾನ ಬದಲಿಸಿ ವ್ಯತ್ಯಾಸವನ್ನು ತಯಾರಿಸಿ



C

ಗುರುತಿಸಿ

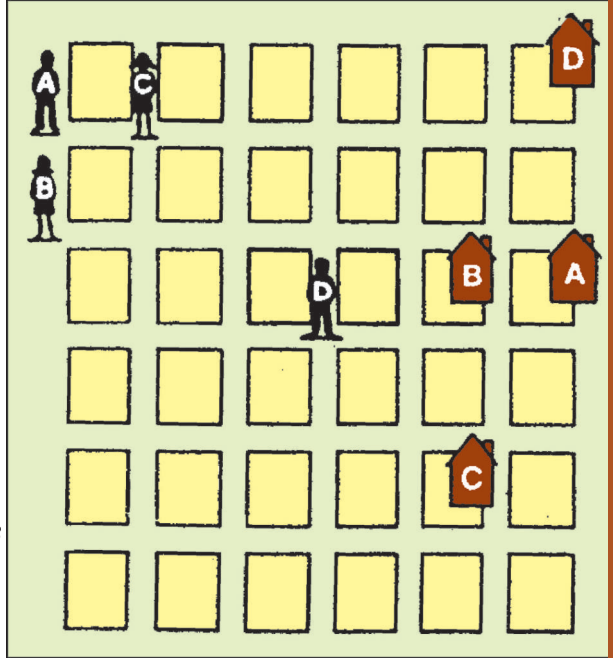
ಇಲ್ಲಿ ಹಲವು ಪಕ್ಷಿಗಳಿವೆ. ಆದರೆ ಅದರಲ್ಲಿ ಎರಡು ಮಾತ್ರ ಒಂದೇ ರೀತಿ ಇವೆ. ಹಾಗಾದರೆ ಅವು ಯಾವುವು? ಗುರುತಿಸಿ.



B

ಸಹಾಯ ಮಾಡಿ

ಪಿಂಟು, ಚಿಂಟು, ನೀತು ಮತ್ತು ಬೀತು ಎಂಬ ಗೆಲೆಯರು ಶಾಲೆಯಿಂದ ತಮ್ಮ ಮನೆಗಳಿಗೆ ಹೊರಟರು. ಹೋಗುವಾಗ ಅವರೆಲ್ಲ ಬೇರೆ ಬೇರೆ ದಾರಿ ಹಿಡಿದು ಸಾಗಿದ್ದಾರೆ. ಈಗ ಅವರು ಎಲ್ಲಿಯೂ ಒಬ್ಬರಿಗೊಬ್ಬರು ಸಂಧಿಸದಂತೆ, ಹಾಗೂ ಒಬ್ಬರು ಬಳಸಿದ ದಾರಿಯನ್ನು ಮತ್ತೊಬ್ಬರು ದಾಟದಂತೆ ಅವರವರ ಮನೆಯನ್ನು ತಲುಪಲು ಸಹಾಯ ಮಾಡಿ.



ನಕ್ಷೆ ಪತ್ತೆ ಹಚ್ಚಿ

D



ಈ ಬಾವುಟದಲ್ಲಿ ಪ್ರಪಂಚದ ನಕ್ಷೆ ಯಿದೆ. ಅದರ ಸುತ್ತ ಆಲಿವ್ ಹಣ್ಣಿನ ಗೊಂಚಲುಗಳಿದ್ದು, ಅದು ಶಾಂತಿಯನ್ನು ಸಂಕೇತಿಸುತ್ತದೆ. ಹಾಗಾದರೆ ಈ ಬಾವುಟ ಯಾವ ಒಂದು ಸಂಸ್ಥೆಗೆ ಸೇರಿದ್ದು ಹೇಳಬಲ್ಲೀರಾ?

ಉತ್ತರ

