

# ಕಾಡುನ ಬಿಟ್ಟು


## B ಬುದ್ಧಿಗೆ ಗುದ್ದು

ಎ) ಇಲ್ಲಿರುವ ಎರಡೂ ನಾಯಿಗಳ ಮೇಲೆ ಇರುವ ಒಟ್ಟು ಚುಕ್ಕೆಗಳ ಸಂಖ್ಯೆ 96 ಅಂದುಕೊಳ್ಳಿ. ಆದರೆ ಒಂದು ನಾಯಿ ಮೇಲೆ ಇನ್ನೊಂದು ನಾಯಿಗಿಂತ 18 ಚುಕ್ಕೆಗಳು ಹೆಚ್ಚು ಇವೆ. ಹಾಗಾದರೆ ಒಂದೊಂದು ನಾಯಿಯ ಮೇಲೂ ಎಷ್ಟೆಷ್ಟು ಚುಕ್ಕೆಗಳಿವೆ..?



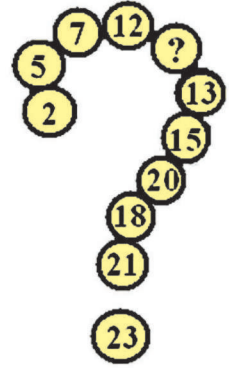
## A ನಕ್ಷತ್ರಗಳನ್ನು ಎಣಿಸಿ

ಕೆಳಗಿನ ಚಿತ್ರದಲ್ಲಿ ಒಟ್ಟು ಎಷ್ಟು ನಕ್ಷತ್ರಗಳಿವೆ.. ಎಣಿಸಿ ನೋಡೋಣ?




ಬಿ) ನಿಮ್ಮ ಬಳಿ ಒಟ್ಟು 10 ಬಾಳೆಹಣ್ಣುಗಳಿದ್ದವು. ಒಂದನ್ನು ಕೋತಿ ಕಸಿಯಿತು. ಇನ್ನೊಂದನ್ನು ಪುಟ್ಟ ಮಗುವಿಗೆ ಕೊಟ್ಟಿರಿ. ಎರಡು ಮನೆಗೆ ಬಂದ ಅತಿಥಿಗಳ ಪಾಲಾಯಿತು. ಮತ್ತೆ ಉಳಿದದ್ದು ಎಷ್ಟು..?

## D ಇಲ್ಲಿ ಬಿಟ್ಟು ಹೋದ ಸಂಖ್ಯೆ ಎಷ್ಟು?



## C ವೃತ್ತಿ ಯಾವುದು?

ಕೆಳಗಿನ ಚಿತ್ರದಲ್ಲಿ ಯಾರು ಯಾವ ವೃತ್ತಿಯವರು? ಗುರುತಿಸಿ.



## ಉತ್ತರಗಳು

1. 24 ಮತ್ತು 72
2. 18 ಮತ್ತು 36
3. 10 ಮತ್ತು 28
4. 1 ಮತ್ತು 10
5. 1 ಮತ್ತು 10
6. 1 ಮತ್ತು 10
7. 1 ಮತ್ತು 10
8. 1 ಮತ್ತು 10
9. 1 ಮತ್ತು 10
10. 1 ಮತ್ತು 10

