


ಕಾಡುನ ಬಿಲ್ಲು

B ಚುಕ್ಕೆಗಳನ್ನು ಸೇರಿಸಿ




ಇಲ್ಲಿರುವ ಒಂಬತ್ತು ಚುಕ್ಕೆಗಳನ್ನು ನಾಲ್ಕು ಗೆರೆ ಎಳೆಯುವ ಮೂಲಕ ಸೇರಿಸಿ. ಆದರೆ ಪೆನ್ಸಿಲ್ ಅನ್ನು ಒಮ್ಮೆಯೂ ಎತ್ತುವಂತಿಲ್ಲ ಮತ್ತು ಒಂದೇ ದಾರಿಯಲ್ಲಿ ಎರಡು ಸಲ ಹೋಗುವಂತಿಲ್ಲ. ಪ್ರಯತ್ನಿಸಿ ನೋಡೋಣ.



A ದಾರಗಳ ಸಂಖ್ಯೆ ಎಷ್ಟು? - ಎಣಿಸಿ

ಇಲ್ಲಿ ಕೊಟ್ಟಿರುವ ಕೊಳಲಿನ ರಂಧ್ರಗಳ ಮೂಲಕ ಒಟ್ಟು ಎಷ್ಟು ದಾರದ ತುಂಡುಗಳನ್ನು ತರಿಸಲಾಗಿದೆ ಎಂದು ಎಣಿಸಿ ಹೇಳಿ.



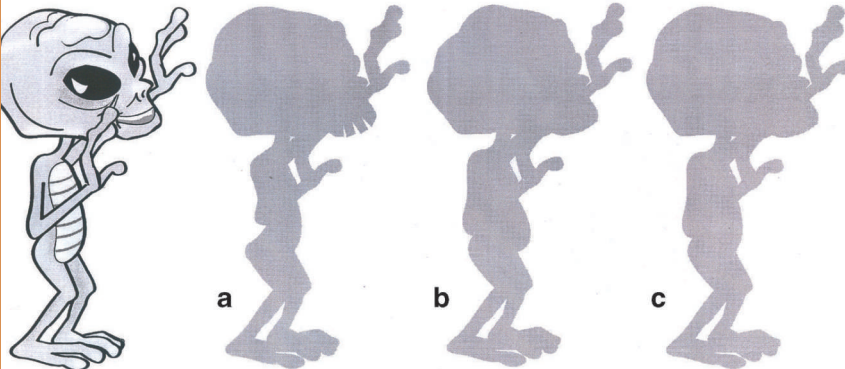
C ಬುದ್ಧಿಗೆ ಗುದ್ದು

ಒಮ್ಮೆ ಮರಕುಟಿಕ ಹಕ್ಕಿಗಳು ಮತ್ತು ಕಾಗೆ ಬಳಗದ ಮರದ ರೆಂಬೆ ಮೇಲೆ ಕುಳಿತು ಚರ್ಚೆ ನಡೆಸಿದವು. ಕಾಗೆ ಬಳಗದ ನಾಯಕ ಮರಕುಟಿಕ ಗುಂಪಿನ ನಾಯಕನಿಗೆ ಹೇಳಿತು- ನಿಮ್ಮ ಗುಂಪಿನಿಂದ ಒಬ್ಬರು ನಮ್ಮ ಗುಂಪಿಗೆ ಬಂದರೆ ಎರಡೂ ಬಳಗದಲ್ಲಿ ಒಂದೇ ಸಂಖ್ಯೆಯ ಹಕ್ಕಿಗಳಾಗುತ್ತವೆ. ಆಗ ಮರಕುಟಿಕದ ನಾಯಕ ಹೇಳಿತು- ನಿಮ್ಮ ಬಳಗದಿಂದ ಒಬ್ಬರು ಇಲ್ಲಿಗೆ ಬಂದರೆ ನಮ್ಮ ಸಂಖ್ಯಾಬಲ ನಿಮಗಿಂತ ದುಪ್ಪಟ್ಟು ಆಗುತ್ತದೆ. ಹಾಗಾದರೆ ಎರಡೂ ಬಳಗದಲ್ಲಿ ಒಟ್ಟು ಎಷ್ಟೆಷ್ಟು ಹಕ್ಕಿಗಳಿದ್ದವು..?



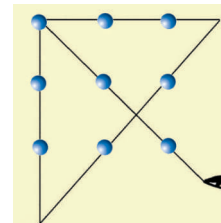
D ನೆರಳು-ಬೆಳಕಿನಾಟ

ಕೆಳಗೆ ಕೊಟ್ಟಿರುವ ಮೊದಲ ಚಿತ್ರಕ್ಕೆ ಎ, ಬಿ, ಸಿ ಆಯ್ಕೆ ಚಿತ್ರಗಳಲ್ಲಿ ಯಾವ ಚಿತ್ರ ಸರಿಯಾಗಿ ಮ್ಯಾಚ್ ಆಗುತ್ತದೆ?



ಉತ್ತರಗಳು

ಉತ್ತರಗಳು (ಅ)



(ಬ)

ಉತ್ತರಗಳು (ಸ) 5 ಮರಕುಟಿಕ ಮತ್ತು 7 ಕಾಗೆಗಳು.

(ಇ)