

# ಕಾಡುನ ಬಿಲ್ಲು


## A ಮೋಜಿನ ಗಣಿತ

ಕೆಳಗಿನ ಸಾಲಿನಲ್ಲಿರುವ ಆಯ್ಕೆ ಸಂಖ್ಯೆಯಿಂದ ಅರಿಸಿ ಮೋಲಿನ ಸಾಲಿನ ಕೊನೆಯ ಸಂಖ್ಯೆ ಬರೆಯಿರಿ.

1486    1367    1239    1183    ?

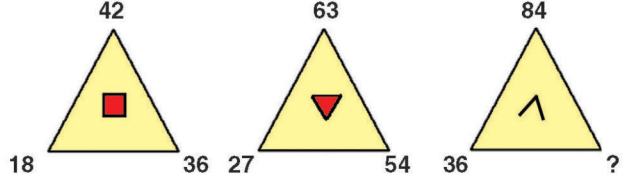
a) 1029    b) 1046    c) 1139

## C ಈ ಚಿತ್ರದಲ್ಲಿ ಒಟ್ಟು ಎಷ್ಟು ಗೊಂಬೆಗಳಿವೆ?



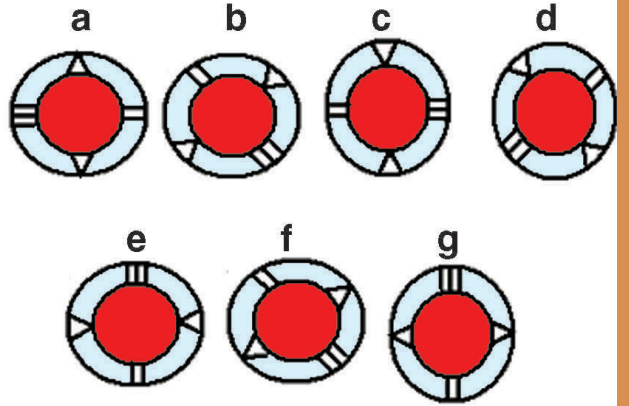
## B ಬುದ್ಧಿಗೆ ಗುಡ್ಡು

ಕೊನೆಯ ತ್ರಿಕೋನದಲ್ಲಿ ಯಾವ ಸಂಖ್ಯೆ ಬರೆಯಬೇಕು?



## D ಗುಂಪಿಗೆ ಸೇರದ್ದನ್ನು ಹೊರ ಹಾಕಿ

ಕೆಳಗಿನ ಚಿತ್ರಗಳಲ್ಲಿ ಒಂದು ಚಿತ್ರಕ್ಕೆ ಜೊತೆ ಇಲ್ಲ. ಅದನ್ನು ಹೊರಗೆ ಹಾಕಿ.



ಉತ್ತರಗಳು

ಏ.) 'ಬಿ', ಪ್ರತಿ ಸಂಖ್ಯೆಗಳ ಮೊದಲ ಎರಡು ಅಂಕಗಳನ್ನು ಮೂರನೇ ಅಂಕಿಯಿಂದ ಕಳೆದರೆ ನಾಲ್ಕನೇ ಅಂಕಿ ಬರುತ್ತದೆ.

ಬಿ.) 72, ಮೂರು ತ್ರಿಕೋನಗಳಲ್ಲಿರುವ ಒಳಗಿನ ಚಿತ್ರಗಳು ಕ್ರಮವಾಗಿ ನಾಲ್ಕು ಬದಿ, ಮೂರು ಬದಿ ಮತ್ತು ಎರಡು ಬದಿಯವು. 4, 3 ಮತ್ತು 2 ಅನ್ನು ಗುಣಿಸಿದಾಗ 21, 9, 18 ರಿವರ್ಸ್ ಆರ್ಡರ್‌ನಲ್ಲಿ ಓದಿದರೆ ಮೂರನೇ ತ್ರಿಕೋನದ ಕೊನೆಯಲ್ಲಿ ಬಿಟ್ಟಿರುವ ಅಂಕ ಸಿಗುತ್ತದೆ. ಹೀಗಾಗಿ..

ಮೊದಲನೇ ಚಿತ್ರದಲ್ಲಿ 2 ಗುಣಿಸು 21 ಅಂದರೆ 42, 2 ಗುಣಿಸು 9 ಅಂದರೆ 18 ಮತ್ತು 2 ಗುಣಿಸು 18 ಅಂದರೆ 36.

ಎರಡನೇ ಚಿತ್ರದಲ್ಲಿ 3 ಗುಣಿಸು 21 ಅಂದರೆ 63, 3 ಗುಣಿಸು 9 ಅಂದರೆ 27 ಮತ್ತು 3 ಗುಣಿಸು 18 ಅಂದರೆ 54

ಮೂರನೇ ಚಿತ್ರದಲ್ಲಿ 4 ಗುಣಿಸು 21 ಅಂದರೆ 84, 4 ಗುಣಿಸು 9 ಅಂದರೆ 36, 4 ಗುಣಿಸು 18 ಅಂದರೆ 72.

ಸಿ.) 6 ಗೊಂಬೆಗಳಿವೆ.

ಡಿ.) 'ಎಫ್' ಚಿತ್ರಕ್ಕೆ ಜೊತೆಯಿಲ್ಲ. ಎ ಚಿತ್ರವನ್ನು 90 ಡಿಗ್ರಿ ಕ್ಲಾಕ್‌ವೈಸ್ ತಿರುಗಿಸಿದರೆ ಚಿತ್ರ 'ಜಿ' ಆಗುತ್ತದೆ; ಚಿತ್ರ 'ಇ' ಅನ್ನು 90 ಡಿಗ್ರಿ ಕ್ಲಾಕ್‌ವೈಸ್ ಚಿತ್ರ 'ಸಿ' ಆಗುತ್ತದೆ ಮತ್ತು 'ಬಿ' ಅನ್ನು 90 ಡಿಗ್ರಿ ತಿರುಗಿಸಿದರೆ 'ಡಿ' ಚಿತ್ರ ಆಗುತ್ತದೆ. ಹೀಗಾಗಿ 'ಎಫ್'ಗೆ ಜೊತೆಯಿಲ್ಲ.