

ಕಾಮನ ಬಿಲ್ಲು

A ಟೋಪಿ ಎಣಿಸಿ



ಟೋಪಿ ಮಾರುವವ ಮತ್ತು ಕೋತಿಗಳ ಕಥೆ ಗೊತ್ತಲ್ವಾ. ಈಗ ಈ ಮರದಲ್ಲಿ ಕುಳಿತ ಕೋತಿಗಳಲ್ಲಿ ಎಷ್ಟು ಟೋಪಿಗಳಿವೆ, ಎಣಿಸಿ ನೋಡೋಣ.









C ಸಿನಿಮಾ ಶೂಟಿಂಗ್ ನಡೆಯುತ್ತಿತ್ತು. ಚಿತ್ರ ನಿರ್ದೇಶಕನಿಗೆ ಯಾರೋ ಶೂಟ್ ಮಾಡಿ ಓಡಿಹೋಗಿದ್ದಾರೆ. ಕೊಲೆಗಾರ ಶೂಟ್ ಮಾಡಿದ ಆಯುಧವನ್ನು ಎಲ್ಲೋ ಬಿಟ್ಟು ಹೋಗಿದ್ದಾನೆ. ಆ ಆಯುಧ ಪತ್ತೆ ಹಚ್ಚಲು ಪೊಲೀಸರಿಗೆ ನೆರವಾಗಿ..



ಸಹಾಯ ಮಾಡಿ..

B ಹೆಜ್ಜೆ ಗುರುತು

ಇಲ್ಲಿ ನಾಲ್ಕು ಪ್ರಾಣಿಗಳಿಗೆ ಇರುವ ನಾಲ್ಕು ಹೆಜ್ಜೆ ಗುರುತುಗಳನ್ನು ಅದಲು ಬದಲು ಮಾಡಲಾಗಿದೆ. ಸರಿಯಾದ ಪ್ರಾಣಿಗೆ ಸರಿಯಾಗಿರುವ ಹೆಜ್ಜೆ ಗುರುತುಗಳನ್ನು ಸರಿಹೊಂದಿಸಿ.

1.		a.	
2.		b.	
3.		c.	
4.		d.	

D ಬುದ್ಧಿಗೆ ಕಸರತ್ತು

ಒಂದು ಬಸ್‌ನಲ್ಲಿ ನಾಲ್ಕು ಮಕ್ಕಳು ಮತ್ತು ಒಬ್ಬ ಚಾಲಕ ಸೇರಿ ಐದು ಮಂದಿ ಇದ್ದರು. ಮಕ್ಕಳ ಬಳಿ ಇದ್ದ ನಾಲ್ಕು ಚೀಲಗಳಲ್ಲಿ ನಾಲ್ಕು ನಾಯಿಗಳು ಇದ್ದವು. ಈಗ ಬಸ್ ನಲ್ಲಿದ್ದವರಲ್ಲಿ ಒಟ್ಟು ಎಷ್ಟು ಕಾಲುಗಳು ಇದ್ದ ಹಾಗಾಯಿತು..?



ಉತ್ತರಗಳು

ಒಂದು ಬಸ್‌ನಲ್ಲಿ ನಾಲ್ಕು ಮಕ್ಕಳು ಮತ್ತು ಒಬ್ಬ ಚಾಲಕ ಸೇರಿ ಐದು ಮಂದಿ ಇದ್ದರು. ಮಕ್ಕಳ ಬಳಿ ಇದ್ದ ನಾಲ್ಕು ಚೀಲಗಳಲ್ಲಿ ನಾಲ್ಕು ನಾಯಿಗಳು ಇದ್ದವು. ಈಗ ಬಸ್ ನಲ್ಲಿದ್ದವರಲ್ಲಿ ಒಟ್ಟು ಎಷ್ಟು ಕಾಲುಗಳು ಇದ್ದ ಹಾಗಾಯಿತು..?

ಉತ್ತರಗಳು

1-4; 2-2; 3-2; 4-2

ಒಟ್ಟು 10