
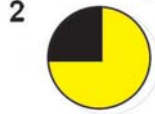
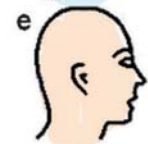
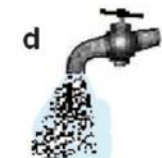

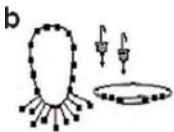


ಕಾಡಿನ ಬಿಲ್ಲು

A ಮ್ಯಾಚ್ ಮಾಡಿ

ಕಾಲಂ 'ಎ' ಯಲ್ಲಿರುವ ವಸ್ತುಗಳೊಂದಿಗೆ ಕಾಲಂ 'ಬಿ' ಯಲ್ಲಿರುವ ವಸ್ತುಗಳನ್ನು ಮ್ಯಾಚ್ ಮಾಡಿ ಹೊಸ ಶಬ್ದವನ್ನು ಕಂಡು ಹಿಡಿಯಿರಿ.




D ಸಂಖ್ಯಾ ಸ್ವರಸ್ಯ

ಈ ಸಂಖ್ಯಾ ಚೌಕದಲ್ಲಿ ಪ್ರತಿಯೊಂದು ಸಾಲಿನಲ್ಲಿರುವ ಅಂಕಗಳೂ ಒಂದು ಮಾದರಿಯನ್ನು ಅನುಸರಿಸಿದೆ. ಈ ಆಧಾರದ ಮೇಲೆ ಬಿಟ್ಟಿರುವ ಅಂಕಗಳನ್ನು ತುಂಬಿರಿ.

2	11	12
13	14	6
4	?	15
17	1	5
8	3	16
19	9	?

B

ಪ್ರಾಣಿಗಳನ್ನು ಗುರುತಿಸಿ



ಇಲ್ಲಿರುವ ಪ್ರಾಣಿಗಳನ್ನು ಗುರುತಿಸಿ. ಈ ಎಲ್ಲ ಪ್ರಾಣಿಗಳಲ್ಲಿ ಒಂದು ಸಾಮಾನ್ಯ ಅಂಶ ಇದೆ. ಅದು ಯಾವುದು ಎಂದು ಹೇಳಬಲ್ಲರಾ..?

C

ಬುದ್ಧಿಗೆ ಗುದ್ದು

ಇಂಕಿ ಮತ್ತು ಪಿಂಕಿ ಮನೆಯ ಮುಂದೆ ಅಳಿ ಅಡ್ಡುತರುವಾಗ ಅಕಸ್ಮಿತವಾಗಿ ಕಿಟಕಿಗೆ ತಾಗಿ ಗಾಜು ಒಡೆಯಿತು. ಅಮ್ಮ ನೋಡಿದ್ರೆ ಖಂಡಿತ ಬೈತಾರೆ.. ಪಿಂಕಿ ಹೇಳಿದಳು. 'ಅದಕ್ಕೆ ಎನು ಮಾಡಬೇಕು ಅಂತ ನನಗೆ ಗೊತ್ತು..' ಇಂಕಿಯ ಉತ್ತರ. ಅವಳು ಹೊರಗೆ ಹೋಗಿ ಒಂದು ದೊಡ್ಡ ಕಲ್ಲು ತಂದು ರೂಂನ ಮಧ್ಯದಲ್ಲಿ ಇಟ್ಟಳು. ಅವರ ಅಮ್ಮ ತಾಪಿಂಗ್ ಮುಗಿಸಿ ಮನೆಗೆ ಬಂದಾಗ 'ಯಾರೋ ಬಂದು ದೊಡ್ಡ ಕಲ್ಲು ಎಸೆದು ಕಿಟಕಿ ಗಾಜು ಒಡೆದಿದ್ದಾರೆ ಎಂದು ಹೇಳಿದರು. ಅಮ್ಮನಿಗೆ ಮಕ್ಕಳು ಸುಳ್ಳು ಹೇಳುತ್ತಿದ್ದಾರೆ ಎಂದು ಗೊತ್ತಾಗಿ ತುಂಬ ಸಿಟ್ಟು ಬಂತು. ಮಕ್ಕಳು ಸುಳ್ಳು ಹೇಳಿದ್ದು ಎಂದು ಅಮ್ಮನಿಗೆ ಹೇಗೆ ಗೊತ್ತಾಯಿತು..?



ಉತ್ತರಗಳು

ಇಂಕಿ ಮತ್ತು ಪಿಂಕಿ ಮನೆಯ ಮುಂದೆ ಅಳಿ ಅಡ್ಡುತರುವಾಗ ಅಕಸ್ಮಿತವಾಗಿ ಕಿಟಕಿಗೆ ತಾಗಿ ಗಾಜು ಒಡೆಯಿತು. ಅಮ್ಮ ನೋಡಿದ್ರೆ ಖಂಡಿತ ಬೈತಾರೆ.. ಪಿಂಕಿ ಹೇಳಿದಳು. 'ಅದಕ್ಕೆ ಎನು ಮಾಡಬೇಕು ಅಂತ ನನಗೆ ಗೊತ್ತು..' ಇಂಕಿಯ ಉತ್ತರ. ಅವಳು ಹೊರಗೆ ಹೋಗಿ ಒಂದು ದೊಡ್ಡ ಕಲ್ಲು ತಂದು ರೂಂನ ಮಧ್ಯದಲ್ಲಿ ಇಟ್ಟಳು. ಅವರ ಅಮ್ಮ ತಾಪಿಂಗ್ ಮುಗಿಸಿ ಮನೆಗೆ ಬಂದಾಗ 'ಯಾರೋ ಬಂದು ದೊಡ್ಡ ಕಲ್ಲು ಎಸೆದು ಕಿಟಕಿ ಗಾಜು ಒಡೆದಿದ್ದಾರೆ ಎಂದು ಹೇಳಿದರು. ಅಮ್ಮನಿಗೆ ಮಕ್ಕಳು ಸುಳ್ಳು ಹೇಳುತ್ತಿದ್ದಾರೆ ಎಂದು ಗೊತ್ತಾಗಿ ತುಂಬ ಸಿಟ್ಟು ಬಂತು. ಮಕ್ಕಳು ಸುಳ್ಳು ಹೇಳಿದ್ದು ಎಂದು ಅಮ್ಮನಿಗೆ ಹೇಗೆ ಗೊತ್ತಾಯಿತು..?

2	11	12
13	14	6
4	10	15
17	1	5
8	3	16
19	9	7