



# ಕಾಡುನ ಬಿಲ್ಲು

**A** ಈ ಬೆಕ್ಕಿನ ಚಿತ್ರವನ್ನು ಕೆಳಗಿನ ಬಾಕ್ಸ್‌ನಲ್ಲಿ ಕಾಪಿ ಮಾಡಿ; ಬಣ್ಣ ಹಾಕಿ.



**D** ಸಂಖ್ಯಾ ಸ್ವರಸ್ಯ


ಇಲ್ಲಿ ಪ್ರತ್ಯಾಥಕ ಚಿಹ್ನೆ ಇರುವಲ್ಲಿ ಯಾವ ಅಂಕ ಬರಬೇಕು..?



4	12	12	7	9	12
7	7	14	1	7	?

**B**


ಈ ಚಿತ್ರದಲ್ಲಿ ಒಟ್ಟು ಎಷ್ಟು ಟ್ರೋಫಿಗಳಿವೆ ಎಣಿಸಿ ನೋಡೋಣ..?



**C**

ಬುದ್ಧಿಗೆ ಗುದ್ದು

ಈ ಚೋರನಿಗೆ ಕೆಳಗೆ ಇರುವ ಜ್ಯುವೆಲ್ ಬಾಕ್ಸ್ ಮೇಲೆ ಕಣ್ಣು. ಅದನ್ನು ಪಡೆಯಲು ಈತ 'ಪಿ' ಅಕ್ಷರವನ್ನು ಮಾತ್ರ ಬಳಸಿ ಹೋಗಬೇಕಾಗಿದೆ. ಹೇಗೆ?



ಉತ್ತರಗಳು

ಛೇದನ ೨೮ ಛೇದನ  
 ಸಮೀಪದ ಸಂದರ್ಭಗಳಲ್ಲಿ ಛೇದನ (ಛೇದನ)  
 ಛೇದನಗಳಲ್ಲಿ ೨೮ (ಛೇದನ)