



ಕಾಡಿನ ಬಿಲ್ಲು

B

ಕೆಳಗಿನ ಎರಡು ಚಿತ್ರಗಳ ನಡುವೆ ಇರುವ ವ್ಯತ್ಯಾಸ ಗುರುತಿಸಿ

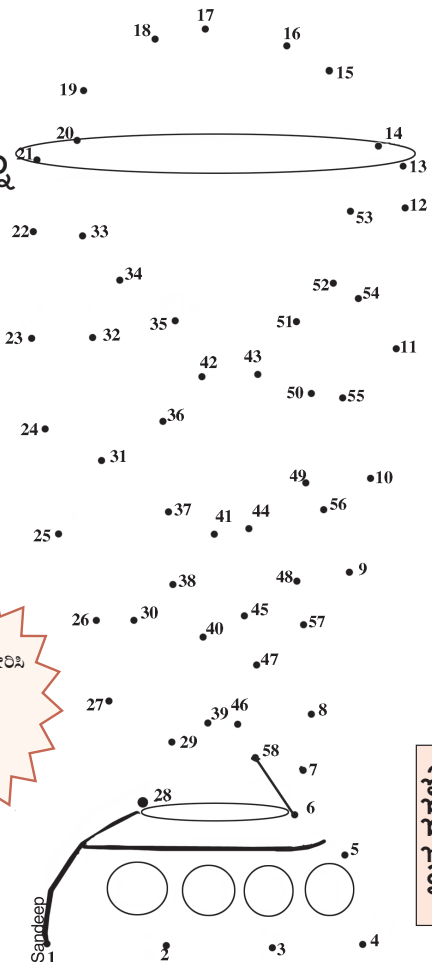
A ತ್ರಿಕೋನ ಚಮತ್ಕಾರ

ಈ ರೇಖಾಕೃತಿಯಲ್ಲಿ ಒಟ್ಟು ಎಷ್ಟು ತ್ರಿಕೋನಗಳಿವೆ?



C

ಚುಕ್ಕೆಗಳನ್ನು ಸೇರಿಸಿ



ಚುಕ್ಕೆಗಳನ್ನು ಸೇರಿಸಿ ಈ ಚಿತ್ರವನ್ನು ಪೂರ್ಣಗೊಳಿಸಿ

D

ಬುದ್ಧಿಗೆ ಗುದ್ದು

ಮೂರು ಟೀ ಕಪ್‌ನಲ್ಲಿ 6 ಸಕ್ಕರೆ ಕ್ಯೂಬ್‌ಗಳನ್ನು ಹಾಕಬೇಕು. ಎಲ್ಲ ಆರು ಕ್ಯೂಬ್‌ಗಳನ್ನು ಬಳಸಬೇಕು. ಕ್ಯೂಬ್‌ಗಳನ್ನು ತುಂಡು ಮಾಡುವಂತಿಲ್ಲ. ಮೂರು ಕಪ್‌ಗಳಲ್ಲಿಯೂ ಒಂದೇ ಅಂಕಿಯ ಕ್ಯೂಬ್ ಬರುವಂತಿಲ್ಲ. ಬೇರೆ ಬೇರೆ ಸಂಖ್ಯೆಗಳೇ ಬರಬೇಕು. ಹೇಗೆ ಮಾಡುತ್ತೀರಿ?



ಉತ್ತರಗಳು

1) 44

2) 1

3) 2

4) 3

5) 4

6) 5

7) 6

8) 7

9) 8

10) 9

11) 10

12) 11

13) 12

14) 13

15) 14

16) 15

17) 16

18) 17

19) 18

20) 19

21) 20

22) 21

23) 22

24) 23

25) 24

26) 25

27) 26

28) 27

29) 28

30) 29

31) 30

32) 31

33) 32

34) 33

35) 34

36) 35

37) 36

38) 37

39) 38

40) 39

41) 40

42) 41

43) 42

44) 43

45) 44

46) 45

47) 46

48) 47

49) 48

50) 49

51) 50

52) 51

53) 52

54) 53

55) 54

56) 55

57) 56

58) 57