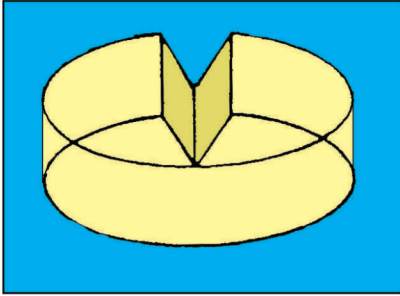


ಕಾಡುನ ಬಿಲ್ಲು

A


ಕೇಕ್ ಸ್ಲೈಸ್..!

ಈ ಕೇಕ್‌ನಿಂದ ಒಂದು ಸ್ಲೈಸ್ ತೆಗೆಯಲಾಗಿದೆ. ಅದೇ ಸ್ಲೈಸ್ ಅನ್ನು ಕೇಕ್ ಚಿತ್ರದ ಬೇರೆ ಕಡೆ ಇಡಲಾಗಿದೆ. ಅದು ಎಲ್ಲಿದೆ ಹೇಳಿ ನೋಡೋಣ



B

ಚುಕ್ಕೆ ಇರುವ ಜಾಗಕ್ಕೆ ಬಣ್ಣ ಹಾಕಿ, ಇಲ್ಲಿ ಯಾವ ಚಿತ್ರ ಇದೆ..?



C

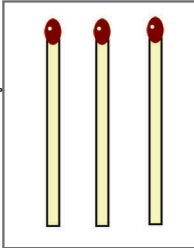
ಝಣ ಝಣ ಕಾಂಬಾಣ..

ಈ ಮನೆಯಲ್ಲಿ ಎಲ್ಲಿ ನೋಡಿದರೂ ನೋಟುಗಳು. ಎಷ್ಟರ ನೋಟುಗಳು ಇಲ್ಲಿವೆ ಮತ್ತು ಒಟ್ಟು ಎಷ್ಟು ಹಣ ಇದೆ..?



D

ಇಲ್ಲಿರುವ ಮೂರು ಬೆಂಕಿಕಡ್ಡಿಗಳನ್ನು ತುಂಡು ಮಾಡದೆ ಮತ್ತು ಬೇರೆ ಸೇರಿಸದೆ ಇಲ್ಲಿರುವುದಕ್ಕೆಂತ ಎರಡರಷ್ಟು ಬೆಂಕಿಕಡ್ಡಿ ಮಾಡಲು ಸಾಧ್ಯವೇ..?



ಉತ್ತರಗಳು

ಉತ್ತರಗಳು :-
 1. ಒಟ್ಟು ನೋಟುಗಳ ಮೊತ್ತ 5000 ರೂಪಾಯಿ
 2. ಒಟ್ಟು ನೋಟುಗಳ ಸಂಖ್ಯೆ 10
 3. ಒಟ್ಟು ನೋಟುಗಳ ಮೊತ್ತ 500 ರೂಪಾಯಿ
 4. ಒಟ್ಟು ನೋಟುಗಳ ಸಂಖ್ಯೆ 10
 5. ಒಟ್ಟು ನೋಟುಗಳ ಮೊತ್ತ 500 ರೂಪಾಯಿ
 6. ಒಟ್ಟು ನೋಟುಗಳ ಸಂಖ್ಯೆ 10
 7. ಒಟ್ಟು ನೋಟುಗಳ ಮೊತ್ತ 500 ರೂಪಾಯಿ
 8. ಒಟ್ಟು ನೋಟುಗಳ ಸಂಖ್ಯೆ 10
 9. ಒಟ್ಟು ನೋಟುಗಳ ಮೊತ್ತ 500 ರೂಪಾಯಿ
 10. ಒಟ್ಟು ನೋಟುಗಳ ಸಂಖ್ಯೆ 10