





ಇಲ್ಲಿ ಕೊಟ್ಟಿರುವ ತುಂಡು ತುಂಡಾಗಿರುವ ಚಿತ್ರವನ್ನು ಖಾಲಿ ಇರುವ ಬಾಕ್ಸ್‌ನಲ್ಲಿ ತುಂಬಿ ಒಂದು ಪರಿಪೂರ್ಣ ಚಿತ್ರ ರಚಿಸಿ.

A ಬುದ್ಧಿಗೆ ಗುದ್ದು




C ಸಂಖ್ಯಾ ಸ್ವಾರಸ್ಯ!

ಒಂದು ಕ್ಲಾಸ್‌ನಲ್ಲಿ 30 ಮಕ್ಕಳಿದ್ದರು. ಒಂದು ದಿನ ಟೀಚರ್ ನಡೆಸಿದ ಪ್ರಬಂಧ ಸ್ಪರ್ಧೆಯಲ್ಲಿ ಐದು ಮಕ್ಕಳು 'ಬಿ' ಗ್ರೇಡ್ ಪಡೆದರು. ಇದರ ಎರಡರಷ್ಟು ಮಕ್ಕಳಿಗೆ 'ಸಿ' ಗ್ರೇಡ್ ಸಿಕ್ಕಿತು. 10 ಮಕ್ಕಳು ಬರೆದ ಪ್ರಬಂಧ ಕಳಪೆ ಮಟ್ಟದ್ದಾಗಿದ್ದರಿಂದ ಗ್ರೇಡ್ ಸಿಗಲಿಲ್ಲ. ಹಾಗಾದರೆ 'ಎ' ಗ್ರೇಡ್ ಪಡೆದ ಮಕ್ಕಳ ಸಂಖ್ಯೆ ಎಷ್ಟು..?



B ಈ ಚಿತ್ರ ನೋಡಿ. ಒಂದು ಮರದ ರಂಬೆಯ ಮೇಲೆ ಹಾವು ಇದೆ. ಕೆಳಗೆ ಕೆವಿ ಪಕ್ಷಿ ಇದೆ. ಇಂಥ ಸನ್ನಿವೇಶವನ್ನು ಎಲ್ಲಿ ಕಾಣಬಹುದು..? ಊಹಿಸಿ.



ಉತ್ತರಗಳು

ಠೋಡ್ 5 (ಃ)

ಠೋಡ್ 5 (ಃ) ಠೋಡ್ 5 (ಃ) ಠೋಡ್ 5 (ಃ) ಠೋಡ್ 5 (ಃ) ಠೋಡ್ 5 (ಃ) ಠೋಡ್ 5 (ಃ) ಠೋಡ್ 5 (ಃ) ಠೋಡ್ 5 (ಃ) ಠೋಡ್ 5 (ಃ) ಠೋಡ್ 5 (ಃ)

ಠೋಡ್ 5 (ಃ) ಠೋಡ್ 5 (ಃ) ಠೋಡ್ 5 (ಃ) ಠೋಡ್ 5 (ಃ) ಠೋಡ್ 5 (ಃ) ಠೋಡ್ 5 (ಃ) ಠೋಡ್ 5 (ಃ) ಠೋಡ್ 5 (ಃ) ಠೋಡ್ 5 (ಃ) ಠೋಡ್ 5 (ಃ)