

ರಾಹುನ ಬಿಲ್ಲು

B ಸಂಖ್ಯಾ ಸ್ವರಸ್ಯ..!

31, 30, 31, 31.... ಈ ನಂಬರ್ ಮಾದರಿಯನ್ನು ನೋಡಿ. ಮುಂದಿನ ಸಂಖ್ಯೆ ಯಾವುದು..?

A ಬಾತುಕೋಳಿಗಳನ್ನು ಎಣಿಸಿ


ಈ ಕೆಳಗೆ ಕೊಟ್ಟಿರುವ ಚಿತ್ರದಲ್ಲಿ ಎಷ್ಟು ಬಾತುಕೋಳಿಗಳಿವೆ..?




MARCH						2007
S	M	T	W	T	F	S
				1	2	3
4	5	6	7	8	9	10
11	12	13	14	15	16	17
18	19	20	21	22	23	24
25	26	27	28	29	30	31

D ಬುದ್ಧಿ ಗೆ ಗುದ್ದು

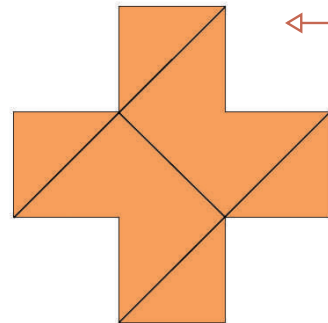
ಈ ರೇಖಾ ಚಿತ್ರಗಳನ್ನು ಬಳಸಿ ಒಂದು ಪೂರ್ಣ ಕಲಾಕೃತಿ ರಚಿಸಿ.



C ಈ ಚಿತ್ರಕ್ಕೆ ಬಣ್ಣ ಹಾಕಿ.



ಉತ್ತರಗಳು



(ಅ) ಒಂದು ಸಂಖ್ಯೆ ಇನ್ನೊಂದು ಸಂಖ್ಯೆಗಿಂತ ಹೆಚ್ಚಿನದ್ದು ಅಥವಾ ಕಡಿಮೆಯಿರಬಹುದು. ಇದನ್ನು ಸಂಖ್ಯಾ ಸ್ವರಸ್ಯವೆಂದು ಕರೆಯಲಾಗುತ್ತದೆ. ಉದಾಹರಣೆಗೆ 31, 30, 31, 31... ಇವು ಸಂಖ್ಯಾ ಸ್ವರಸ್ಯವನ್ನು ತೋರಿಸುತ್ತವೆ.

(ಆ) 81