


# ಕಾಡುನ ಬಿಲ್ಲು

## ಬುದ್ಧಿಗೆ ಗುದ್ದು

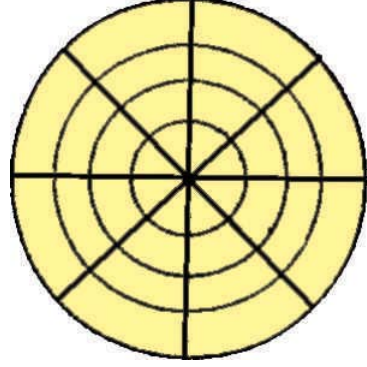
1 ಒಂದು ಹಳ್ಳಿಯಲ್ಲಿ 400 ಮಹಿಳೆಯಿದ್ದಾರೆ. ಇವರಲ್ಲಿ ಶೇ.3ರಷ್ಟು ಮಹಿಳೆಯರು ತಲಾ ಒಂದು ಕಿವಿಗೆ ಓಲೆ ಧರಿಸುತ್ತಾರೆ. ಉಳಿದ ಶೇ.97ರಷ್ಟು ಮಹಿಳೆಯರಲ್ಲಿ ಅರ್ಧದಷ್ಟು ಮಂದಿ ಎರಡು ಕಿವಿಗಳಿಗೂ ಓಲೆ ಧರಿಸಿದರೆ ಉಳಿದವರು ಕಿವಿಯೋಲೆ ಹಾಕೋದೇ ಇಲ್ಲ. ಹಾಗಾದರೆ ಎಷ್ಟು ಕಿವಿಯೋಲೆ ಧರಿಸಿದ ಹಾಗಾಯಿತು?




2 ಮಧ್ಯಾಹ್ನ ದಿಂದ ಮಧ್ಯರಾತ್ರಿವರೆಗಿನ 12 ಗಂಟೆ ಅವಧಿಯಲ್ಲಿ ಗಡಿಯಾರದ ನಿಮಿಷದ ಮುಳ್ಳು ಎಷ್ಟು ಸಲ ಗಂಟೆ ಮುಳ್ಳಿನ ಮೇಲೆ ಹಾದು ಹೋಗುತ್ತದೆ..?



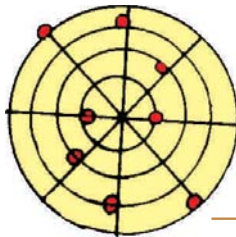
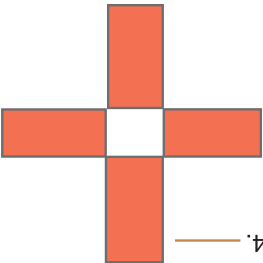
3 ನೇರ ಗೆರೆಯಲ್ಲಿ 2 ಚುಕ್ಕೆ ಹಾಗೂ ವೃತ್ತದ ಮೇಲಿರುವ 2 ಚುಕ್ಕೆಗಳನ್ನು ಗುರುತಿಸಿ ಈ ಚಿತ್ರದಲ್ಲಿ ಒಟ್ಟು 8 ಚುಕ್ಕೆಗಳನ್ನು ಪತ್ತೆ ಹಚ್ಚಬೇಕು.



4 ಈ ನಾಲ್ಕು ಕಾರ್ಡ್‌ಗಳನ್ನು ಬಳಸಿ ಚೌಕವನ್ನು ರಚಿಸಬೇಕು. ಅದರ ಪೆನ್‌ನ್ನು ಎತ್ತದೆ ಒಂದೇ ಸಲಕ್ಕೆ ಗೆರೆ ಎಳೆಯಬೇಕು; ಅದು ಹೇಗೆ?



### ಉತ್ತರಗಳು



1. ಶೇ 97 ಮಹಿಳೆಯರು ಎರಡು ಕಿವಿಗಳಿಗೆ ಓಲೆ ಧರಿಸಿದರೆ ಉಳಿದವರು ಹಾಕಿಕೊಳ್ಳದೇ. ಉಳಿದ ಶೇ 3ರಷ್ಟು ಮಹಿಳೆಯರು ಒಂದೊಂದು ಓಲೆ ಧರಿಸುತ್ತಾರೆ. ಹಾಗಾಗಿ ಒಟ್ಟು ಧರಿಸಿದ ಓಲೆ ಸಂಖ್ಯೆ 400.  
2. 11 ಸಲ.  
3.  
4.