



ಕಾಡುನ ಬಿಲ್ಲು

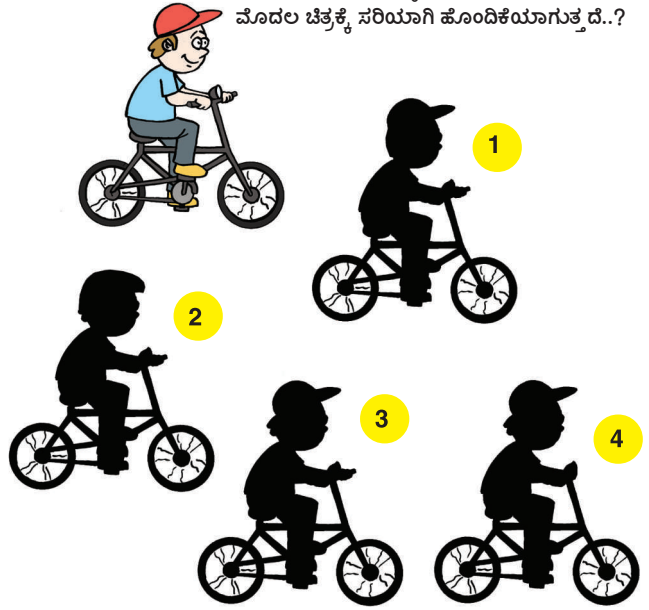
A ವ್ಯತ್ಯಾಸ ಗುರುತಿಸಿ

ಕೆಳಗಿನ ಎರಡು ಚಿತ್ರಗಳ ನಡುವಿನ ವ್ಯತ್ಯಾಸ ಗುರುತಿಸಿ



B ನೆರಳು ಬೆಳಕಿನಾಟ

1-4ರವರೆಗಿರುವ ಆಯ್ಕೆ ಚಿತ್ರಗಳಲ್ಲಿ ಯಾವ ಚಿತ್ರ ಮೊದಲ ಚಿತ್ರಕ್ಕೆ ಸರಿಯಾಗಿ ಹೊಂದಿಕೆಯಾಗುತ್ತದೆ..?



D ಸಂಖ್ಯಾ ಸ್ವರಸ್ಯ

ನಿಮ್ಮ ಗೆಳೆಯನಿಗೆ ಮೂರು ಡಿಜಿಟ್ ಸಂಖ್ಯೆ ಬರೆಯಲು ಹೇಳಿ. ಒಂದು ಅಂಕಿಯೂ ರಿಪೀಟ್ ಆಗುವಂತಿಲ್ಲ. ಉದಾ: 258. ಇದನ್ನು ಎರಡು ಸಲ ಬರೆಯಲು ಹೇಳಿ. ಆಗ ಅದು 258258 ಆಗುತ್ತದೆ. ಇದನ್ನು 7ರಿಂದ ಡಿವೈಡ್ ಮಾಡಲು ಹೇಳಿ. ಬಂದ ಮೊತ್ತವನ್ನು 11ರಿಂದ ಮತ್ತೆ ಡಿವೈಡ್ ಮಾಡಲಿ.

ಈಗ ಬಂದ ಮೊತ್ತವನ್ನು 13ರಿಂದ ಬಾಗಿಸಿದರೆ ಅವನು ಮೊದಲು ಬರೆದ ಮೂರು ಡಿಜಿಟ್ ಸಂಖ್ಯೆ ಸಿಗುತ್ತದೆ.

C ಸಂಖ್ಯೆಗಳನ್ನು ಹುಡುಕಿ

ಇಲ್ಲಿರುವ ಅಂಕಗಳ ಚೌಕದಲ್ಲಿರುವ ಅಂಕಗಳನ್ನು ಬಳಸಿ ಸೀಕ್ವೆನ್ಸ್ ಮಾಡಿ. ಅದು ಮೇಲಿನಿಂದ ಕೆಳಕ್ಕೆ; ಎಡದಿಂದ ಬಲಕ್ಕೆ ಮತ್ತು ಓರೆಯಾಗಿ ಮೂಲೆಯಿಂದ ಮೂಲೆಗೂ ಆಗಬಹುದು.

2	3	5	7	12	18	20	29
6	22	12	23	4	1	21	31
11	16	19	20	53	8	10	37
26	17	14	47	1	16	9	41
13	4	43	47	53	59	61	11
28	41	40	14	7	21	67	23
52	3	10	27	5	28	71	41
60	7	8	30	9	26	73	22

60	7	73	26	9	30	8	7	22
52	3	28	27	5	27	10	41	41
28	41	21	67	23	14	40	28	23
13	4	43	47	53	59	61	11	11
26	17	14	47	1	16	9	41	41
11	16	19	20	53	8	10	37	37
6	22	12	23	4	1	21	31	31
2	3	5	7	12	18	20	29	29

ಉತ್ತರಗಳು

