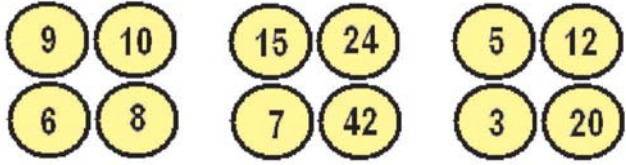




B

ಸಂಖ್ಯಾ ಸ್ವರಸ್ಯ

ಈ ಸಿರಿಸ್ ಅನ್ನು ಪೂರ್ತಿಗೊಳಿಸಲು ಕೆಲಗೆ ಕೊಟ್ಟಿರುವ ಆಯ್ಕೆ ಗುಂಪಿನಿಂದ ಆರಿಸಿ.



A ಬುದ್ಧಿ ಗೆ ಗುದ್ದು

1

ಹುಡುಗಿ ಸೀನುವ ಚಿತ್ರ ಬಿಡಿಸಲು ಹೋದ ಕಲಾವಿದನಿಗೆ ಗೊಂದಲವಾಗಿದೆ. ಕಲಾವಿದ ದಾರಿ ತಪ್ಪಿದ್ದು ಎಲ್ಲಿ..?



2

ಸಾಕ್ಷಿ ಎ: ಪಾವ್ಲು ರಮೇಶ್ ಹಿಂದೆ ನಿಂತಿದ್ದ. ಸಾಕ್ಷಿ ಬಿ: ರಮೇಶ್ ಪಾವ್ಲು ಹಿಂದೆ ನಿಂತಿದ್ದ. ಆದರೆ.. ತೀರ್ಪುಗಾರ ಹೇಳುತ್ತಾನೆ- ಇಬ್ಬರೂ ಹೇಳುತ್ತಿರುವುದು ಸತ್ಯವೇ. ಅದು ಹೇಗೆ..?

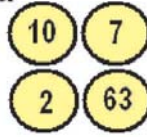


3

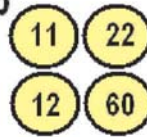
ಎರಡು ಅಂಕಗಳ ಜೋಡಿ ಮಾಡಿ. ಪ್ರತಿ ನಾಲ್ಕು ಜೋಡಿ ಸಂಖ್ಯೆಗಳನ್ನು (ಮೊದಲ ಮತ್ತು ಕೊನೆಯ ಅಂಕ ತೆಗೆದುಕೊಂಡು) ಬಿಡಿಬಿಡಿಯಾಗಿ ಸೇರಿಸಿದರೆ ಒಂದೇ ಸಂಖ್ಯೆ ಬರುತ್ತದೆ. ಅಂಕಗಳು: 1,2,3,4,5,6,7,8



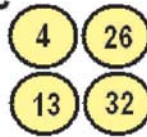
a



b




c

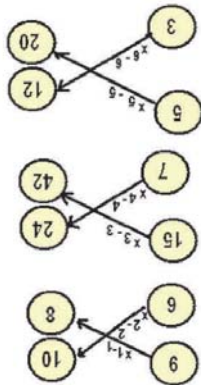


4

ಮೂರು ಇನ್ಟೀಟರ್ ಕಾರ್ಡ್‌ಗಳು ಟೇಬಲ್ ಮೇಲೆ ಇವೆ. ಒಂದು ಕಿಂಗ್, ಮತ್ತೊಂದು ಕ್ವೀನ್, ಇನ್ನೊಂದು ಜ್ಯಾಕ್. ಕಾರ್ಡ್ 1- ಕಿಂಗ್ ನನ್ನ ನಂತರ ಇದೆ. ಕಾರ್ಡ್ 2- ನಾನು ಕ್ವೀನ್ ಕಾರ್ಡ್ 3- ನನ್ನ ನಂತರ ಇರುವುದು ಜ್ಯಾಕ್ ಕಿಂಗ್ ಯಾವಾಗಲೂ ಸತ್ಯವೇ ಹೇಳೋದು. ಆದರೆ ಜ್ಯಾಕ್ ಸತ್ಯ ಹೇಳಲ್ಲ. ಇಷ್ಟನ್ನು ಗಮನದಲ್ಲಿಟ್ಟುಕೊಂಡು ಯಾವ ಕಾರ್ಡ್ ಯಾವುದರ ನಂತರ ಇದೆ ಎಂಬುದನ್ನು ಊಹಿಸಬಲ್ಲೆರಾ...?



ಉತ್ತರಗಳು



ಬಿ: ಚಿತ್ರ ಎ: ಕೋಡ್ ಹೀಗಿದೆ.

1. 3-20, 5-12, 7-42, 15-24, 6-8, 9-10
2. ಕಿಂಗ್ ನಂತರ ಕ್ವೀನ್ ನಂತರ ಜ್ಯಾಕ್
3. 1-8; 2-7; 3-6; 4-5 = 9
- 4) ಕಿಂಗ್ ಯಾವಾಗಲೂ ಸತ್ಯವೇ ಹೇಳುತ್ತದೆ.
- 5) ಕಿಂಗ್ ನಂತರ ಕ್ವೀನ್ ನಂತರ ಜ್ಯಾಕ್
- 6) ಕಿಂಗ್ ನಂತರ ಜ್ಯಾಕ್ ನಂತರ ಕ್ವೀನ್