



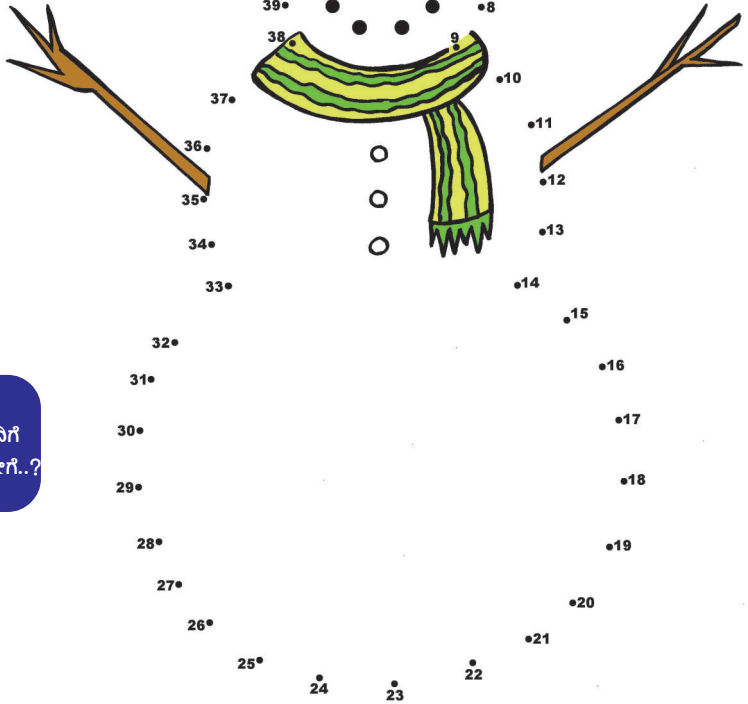
B ಚುಕ್ಕೆ ಸೇರಿಸಿ

ಚುಕ್ಕೆ ಸೇರಿಸಿ; ಚಿತ್ರ ರಚಿಸಿ ಬಣ್ಣ ಹಾಕಿ

A ಸಂಖ್ಯಾ ಸ್ವಾರಸ್ಯ

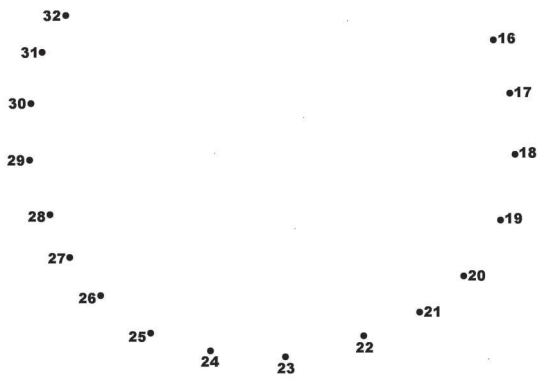
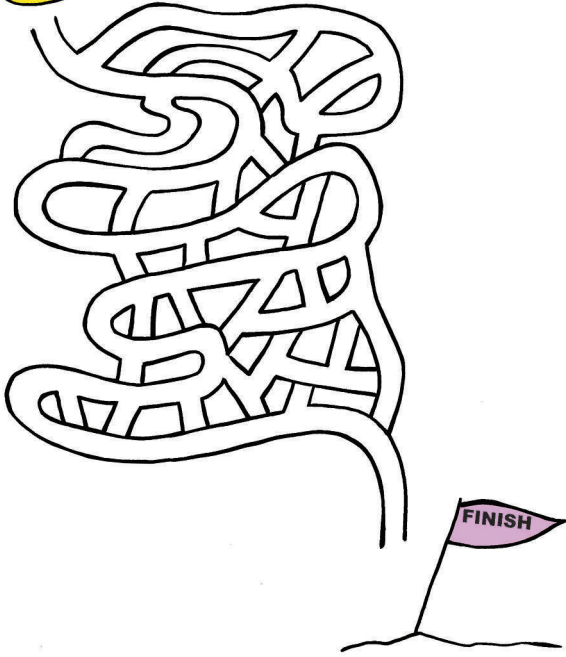
ಚೌಕದ ಮಧ್ಯೆ ಇರುವ ಸಂಖ್ಯೆಗಳಿಗೆ ಕೊನೆಯ ಸಂಖ್ಯೆಗಳು ಸಂಬಂಧ ಇದೆ. ಇದನ್ನು ಅನುಸರಿಸಿ ಪ್ರಶ್ನೆ ಇರುವ ಚೌಕದಲ್ಲಿ ಯಾವ ಅಂಕ ಬರಬೇಕು..?

3	51	5
8	46	8
2	41	7
3	21	4
6	?	9



C ಬುದ್ಧಿ ಗೆ ಗುದ್ದು

ಈ ನಾವಿಕ ಇನ್ನೊಂದು ಬದಿಗೆ ಸಾಗಬೇಕು. ಹೇಗೆ..?



ಉತ್ತರಗಳು

44=9X5
 ಸಂಖ್ಯೆ 45, 8ಎಂಬ
 ಇವುಗಳ ಮಧ್ಯೆ ಕೊನೆಯ ಸಂಖ್ಯೆ
 15 ಎಂಬ ಸಂಬಂಧ ಇದೆ.
 ಇದನ್ನು 5X3=15, ಇದನ್ನು
 3X4=12 ಎಂಬ ಸಂಬಂಧ
 ಇದೆ. ಆದ್ದರಿಂದ ಪ್ರಶ್ನೆ
 ಇರುವ ಚೌಕದಲ್ಲಿ 6
 ಅಂಕ ಬರಬೇಕು.