

ಕಾಡುನ ಬಿಲ್ಲು

A

ಸಂಖ್ಯಾಸ್ವರಸ್ಯ

ಕೆಳಗಿನ ಚೌಕದಲ್ಲಿ ಅಂಕಗಳನ್ನು ಒಂದು ಕ್ರಮದಲ್ಲಿ ಬರೆಯಲಾಗಿದೆ. ಕೊನೆಯ ಚೌಕವನ್ನು ಖಾಲಿ ಬಿಟ್ಟಿದೆ. ಉತ್ತರದ ಚೌಕದಲ್ಲಿ ಕೊಟ್ಟ ಅಂಕಗಳನ್ನು ಆಯ್ಕೆ ಮಾಡಿ ಖಾಲಿ ಬಿಟ್ಟಿರುವ ಜಾಗ ತುಂಬಿರಿ.


1	2	4	2	4	1	
2	5	9	6	7	4	
7	4	1	3	2	8	
3	5	2	1	7	2	
4	1	9	4	3	8	
7	3	3	6	1	3	

a	b	c	d
1	3	5	7
2	4	1	7
5	6	2	3
4	1	5	2
5	8	3	1
3	2	4	9

B

ಬುದ್ಧಿಗೆ ಗುಡ್ಡು

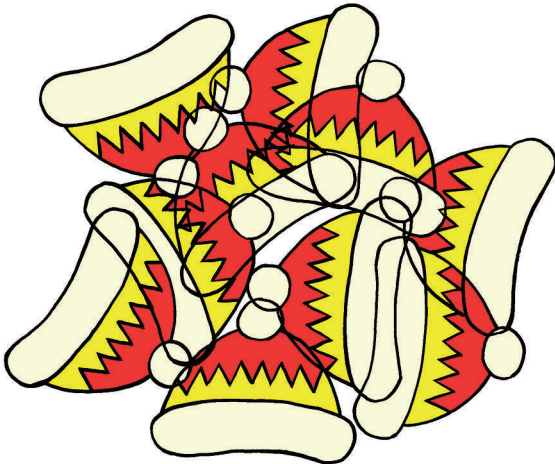
ಈ ಕೆಳಗಿನ ಚಿತ್ರದಲ್ಲಿ ಅನೇಕ ಪುಟ್ಟ ಪುಟ್ಟ ಚಿತ್ರಗಳು ಸೇರಿವೆ. ಅವುಗಳನ್ನು ಗುರುತಿಸಿ.




C

ಟೋಪಿಗಳನ್ನು ಎಣಿಸಿ

ಕೆಳಗಿನ ಚಿತ್ರದಲ್ಲಿ ಒಟ್ಟು ಎಷ್ಟು ಟೋಪಿಗಳಿವೆ..? ಎಣಿಸಿ



ಉತ್ತರಗಳು



ಅ) ಉತ್ತರ ಎ. ಪುಟ ಕಾಲದಲ್ಲಿ 1,2,3,4 ಮತ್ತು ಇನ್ನೊಂದು ಅಂಕವಿರುವ ಸಲ ಉದ್ದಿ.

ಬಿ.)

ಇ) ಟೋಪಿಗಳ ಸಂಖ್ಯೆ 10.