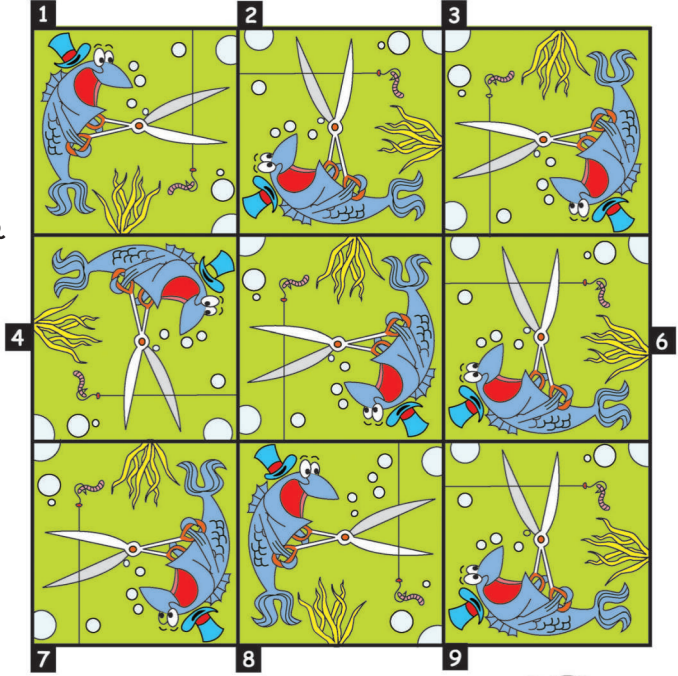



ರಾಮನ ಬಿಲ್ಲು

A ಗುಂಪಿಗೆ ಸೇರದೇ ಇರುವುದನ್ನು ಹೊರಗೆ ಹಾಕಿ

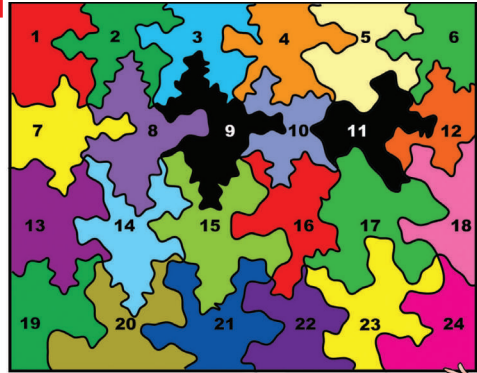
ಇಲ್ಲಿರುವ 9 ಚಿತ್ರಗಳಲ್ಲಿ ಒಂದು ಚಿತ್ರ ಮಾತ್ರ ಉಳಿದ ಚಿತ್ರಗಳಿಗಿಂತ ಸ್ವಲ್ಪ ವ್ಯತ್ಯಾಸವಿದೆ. ಅದು ಯಾವುದು...?



B ಕೆಳಗಿನ ಎರಡು ಚಿತ್ರಗಳ ನಡುವಿನ ವ್ಯತ್ಯಾಸ ಗುರುತಿಸಿ



C 9 ಮತ್ತು 11ನೇ ಬ್ಲಾಕ್‌ಗೆ ಕೆಳಗಿನ ಯಾವ ಎರಡು ಚಿತ್ರಗಳು ಮ್ಯಾಚ್ ಆಗುತ್ತವೆ?




ಉತ್ತರಗಳು

೧ ಮತ್ತು ೧೧

(೧)

೧-೧೧ :೪-೬ (೪)



459 / © 2012 Amrita Bharati, Bharatiya Vidya Bhavar