


ಕಾಪಿನ್ ಬಿಲ್ಡು

A ಗೋಲಿ ಲೆಕ್ಕಾಚಾರ

ರೀನು ಮತ್ತು ಚೇನು ಒಂದು ಪ್ಯಾಕೆಟ್‌ನಲ್ಲಿದ್ದ ಒಟ್ಟು 48 ಗೋಲಿಗಳನ್ನು ಹಂಚಿಕೊಂಡರು. ಚೇನುಗಿಂತ ನನಗೆ 6 ಗೋಲಿ ಹೆಚ್ಚು ಸಿಕ್ಕಿದೆ ಎಂದು ರೀನು ಹೇಳಿದಳು. ಹಾಗಾದರೆ ರೀನು ಬಳಿ ಎಷ್ಟು ಮತ್ತು ಚೇನು ಬಳಿ ಎಷ್ಟು ಗೋಲಿಗಳಿದ್ದವು..?



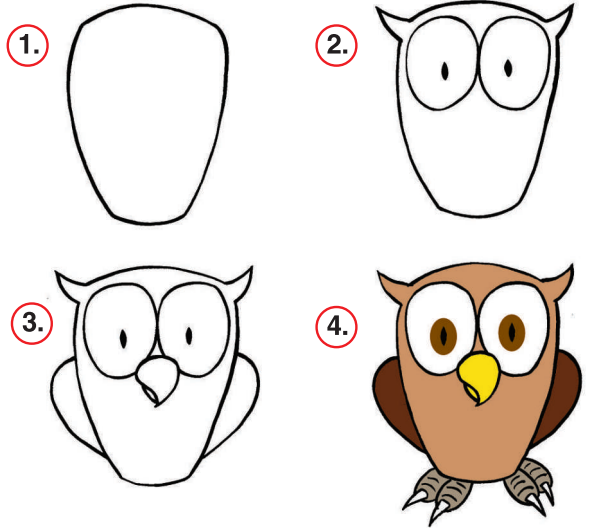
B ಬುದ್ಧಿಗೆ ಗುಡ್ಡು

ಇಲ್ಲಿರುವ ಪ್ರತಿ ಗೊಂಬೆಗಳಿಗೂ ಪ್ರತಿರೂಪದ ಗೊಂಬೆ ಇದೆ. ಒಂದು ಗೊಂಬೆಗೆ ಮಾತ್ರ ಜತೆಯಿಲ್ಲ. ಅದು ಯಾವುದು ಕಂಡುಹಿಡಿಯಿರಿ.



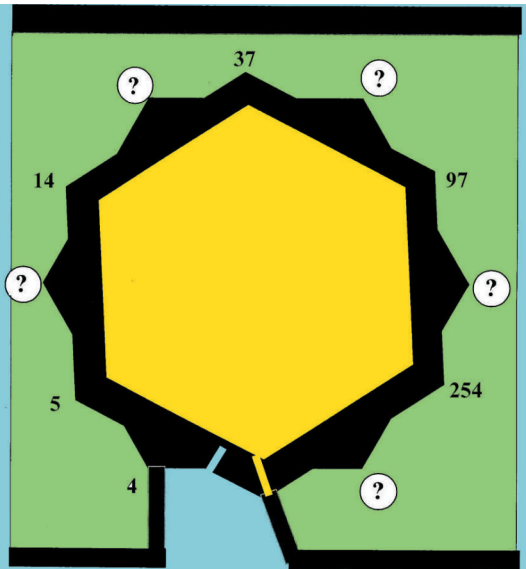
D ನಾಲ್ಕು ಸುಲಭ ಹಂತ ಬಳಸಿ ಗೂಬೆ ಚಿತ್ರ ಮಾಡಲಾಗಿದೆ.

ನೀವೂ ಪ್ರಯತ್ನಿಸಿ...!



C ಸಂಖ್ಯಾಸ್ವಾರಸ್ಯ

ಕೆಳಗಿನ ಚಿತ್ರದಲ್ಲಿ ಪ್ರಶ್ನಾರ್ಥಕ ಚಿಹ್ನೆ ಇರುವ ಕಡೆ ಯಾವ ಸಂಖ್ಯೆ ಬರೆಯಬೇಕು..? ಉತ್ತರಿಸಿ ನೋಡೋಣ



ಉತ್ತರಗಳು

ಏ. ರೀನು ಬಳಿ 27 ಗೋಲಿ ಮತ್ತು ಚೇನು ಬಳಿ 21 ಗೋಲಿಗಳಿವು.
 ಐ. ಗೋಲಿಗಳು 48
 ಏ. ಪ್ರದೀಪ್ (ಕ್ಲಾಕ್‌ವೈಸ್) ನೋಡಿದರು
 $4+5=9$
 $9+14=23$
 $23+37=60$
 $60+97=157$
 $157+254=411$