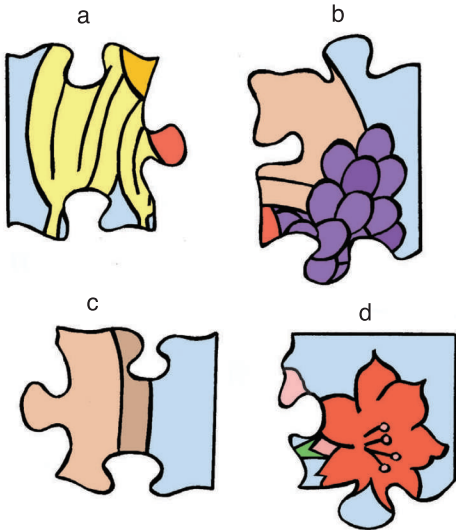




ಕಾಡುನ ಬಿಲ್ಲು


A ಈ ಕೆಳಗಿನ ಚಿತ್ರದ ಕೆಲವು ಭಾಗಗಳು ಬಿಟ್ಟು ಹೋಗಿವೆ. 1,2,3,4 ಜಾಗಕ್ಕೆ ಸರಿ ಹೊಂದುವಂತೆ ಎ,ಬಿ,ಸಿ,ಡಿ ಚಿತ್ರಗಳಲ್ಲಿ ಆಯ್ಕೆ ಮಾಡಿ ಚಿತ್ರವನ್ನು ಪೂರ್ತಿಗೊಳಿಸಿ.



B ಕೆಳಗಿನ ಚಿತ್ರವನ್ನು ಗಮನಿಸಿ. ಇದರಲ್ಲಿ ಒಟ್ಟು ನಾಲ್ಕು ಪ್ರಾಣಿಗಳ ವಿವಿಧ ಅಂಗಗಳು ಅಡಗಿವೆ. ಅದು ಯಾವುದೆಂದು ಗುರುತಿಸುವಿರಾ..?



C ಈ ಹಕ್ಕಿಗೆ ಹಾವನ್ನು ಹಿಡಿದು ತಿನ್ನುವ ತವಕ ಹೋಗಲು ದಾರಿ ತೋರಿಸಿ ನೋಡೋಣ..



ಉತ್ತರಗಳು

1-ಎ, 2-ಬಿ, 3-ಸಿ, 4-ಡಿ
1-ಬಿ, 2-ಎ, 3-ಸಿ, 4-ಡಿ



455 / © 2012 Amrita Bharati, Bharatiya Vidya Bhav