



ಕಾಡುನ ಬಿಲ್ಲು

A

ಈ ಎರಡು ಚಿತ್ರಗಳ ನಡುವೆ ಎಷ್ಟು ವ್ಯತ್ಯಾಸಗಳಿವೆ, ಅವು ಯಾವುದೆಂದು ಗುರುತಿಸಬಲ್ಲೆರಾ?



B

ಬುದ್ಧಿಗೆ ಗುದ್ದು

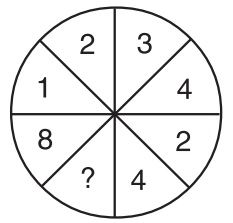
ಮೀನಾಕಿ ತನ್ನ ಕಚೇರಿಗೆ ಹೋಗಬೇಕು. ಇಲ್ಲಿರುವ ಆಕೆಯ ಕಚೇರಿ ಕಟ್ಟಡಗಳ ಸಂಖ್ಯೆಯನ್ನು ಅದಲು ಬದಲು ಮಾಡಿ ಗೊಂದಲ ಉಂಟಾಗಿದೆ. ಇಲ್ಲಿರುವ ಕಟ್ಟಡ ಸಂಖ್ಯೆ ನೋಡಿ ಚಿತ್ರವನ್ನು ಕ್ರಮಬದ್ಧವಾಗಿ ಜೋಡಿಸಿ.



C

ಸಂಖ್ಯಾ ಸ್ವಾರಸ್ಯ


ಈ ವೃತ್ತದಲ್ಲಿರುವ ಅಂಕಗಳನ್ನು ಗಮನಿಸಿ, ಪ್ರತಿ ಇರುವ ಜಾಗದಲ್ಲಿ ಯಾವ ಅಂಕ ತುಂಬಬೇಕು..?



ಉತ್ತರಗಳು

9 (ಇ)

ಉತ್ತರ ಸಿಲಾಹಗಳನ್ನು ನಿರೂಪಿಸಿ
 ಒಂದು ಸಿಲಾಹ ಇರಬೇಕು ನಿರೂಪಿಸಿ
 ಒಂದು ಸಿಲಾಹ ಇರಬೇಕು ಒಂದು ಸಿಲಾಹ ಇರಬೇಕು
 ಒಂದು ಸಿಲಾಹ ಇರಬೇಕು ಒಂದು ಸಿಲಾಹ ಇರಬೇಕು
 ಒಂದು ಸಿಲಾಹ ಇರಬೇಕು ಒಂದು ಸಿಲಾಹ ಇರಬೇಕು



(ಉ)