



ವಾಡುನ ಬಿಲ್ಲು

A

ಎರಡು ಚಿತ್ರಗಳ ನಡುವಿನ ವ್ಯತ್ಯಾಸ ಗುರುತಿಸಿ.



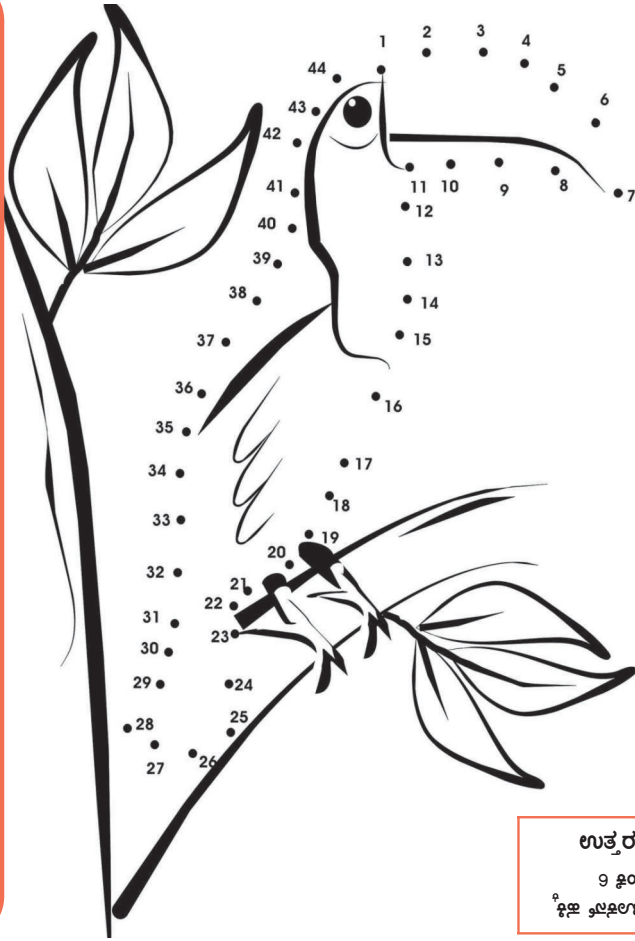
C

ಕೆಲಗಿನ ಹಕ್ಕಿಯ ಚಿತ್ರ ಗಮನಿಸಿ. ಇದರಲ್ಲಿ 1-9ರವರೆಗಿನ ಅಂಕಗಳಲ್ಲಿ ಯಾವುದೋ ಒಂದು ಅಂಕ ಮಾತ್ರ ಬಿಟ್ಟು ಉಳಿದ ಎಲ್ಲ ಅಂಕಗಳನ್ನು ಬಳಸಲಾಗಿದೆ. ಬಿಟ್ಟ ಅಂಕ ಯಾವುದು..?




B

ಚುಕ್ಕೆಗಳನ್ನು ಸೇರಿಸಿ ಯಾವ ಚಿತ್ರ ಬರುತ್ತದೆ ನೋಡಿ..



ಉತ್ತರಗಳು

೨ ಕೂಲಿ (ಚುಕ್ಕೆ)
ಬಿ. (ಚುಕ್ಕೆ)



A.