

ಕಾಡುನ ಬಿಟ್ಟು

A

ಸರಿಯೇ-ತಪ್ಪೇ ತಿಳಿಸಿ

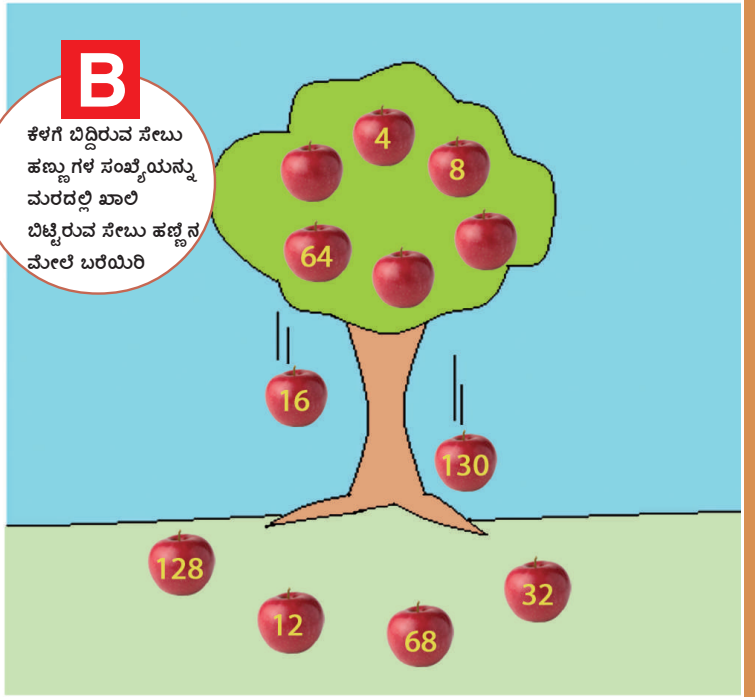
ಎ.) ವರ್ಗಸಂಖ್ಯೆಯು ಯಾವಾಗಲೂ ಬೆಸ ಸಂಖ್ಯೆಯ ಸೊನ್ನೆಯೊಂದಿಗೆ ಕೊನೆಗೊಳ್ಳುತ್ತದೆ.



ಬಿ) ವರ್ಗಸಂಖ್ಯೆಯ ಸರಿ ಸಂಖ್ಯೆಯು ಯಾವಾಗಲೂ ಸರಿ ಸಂಖ್ಯೆ ಆಗಿರುತ್ತದೆ.

B


ಕೆಳಗೆ ಬಿದ್ದಿರುವ ಸೇಬು ಹಣ್ಣುಗಳ ಸಂಖ್ಯೆಯನ್ನು ಮರದಲ್ಲಿ ಖಾಲಿ ಬಿಟ್ಟಿರುವ ಸೇಬು ಹಣ್ಣಿನ ಮೇಲೆ ಬರೆಯಿರಿ



C


ಖಾಲಿ ಬಾಕ್ಸ್ ತುಂಬಿರಿ

ಇಲ್ಲಿ ಖಾಲಿ ಬಿಟ್ಟಿರುವ ಬಾಕ್ಸ್‌ಗೆ ಸರಿಯಾದ ಚಿತ್ರವನ್ನು ತುಂಬಬೇಕು. ಕ್ರೋ: ಪ್ರತಿ ಬಾಕ್ಸ್‌ನಲ್ಲಿರುವ ಮೂರು ಚಿತ್ರಗಳು ಒಂದಕ್ಕೊಂದು ಪೂರಕವಾಗಿದ್ದು ಸಂಬಂಧಪಟ್ಟವು ಆಗಿವೆ.




D

ನೆರಳು ಬೆಳಕಿನಾಟ..!



ಕೆಳಗೆ ಕೊಟ್ಟಿರುವ ಕುದುರೆ ಚಿತ್ರಕ್ಕೆ ಮೇಲಿನ ಚಿತ್ರಗಳಲ್ಲಿ ಯಾವುದು ಸರಿಹೊಂದುತ್ತದೆ..?ಸ



ಉತ್ತರಗಳು

- ಎ) (ಆ) ಉದ್ದಕ್ಕೂ ಬೀದಿ
- ಬಿ) (ಬಿ) ಸುಮಾರು 128 ಸೇಬುಗಳು ಬಿದ್ದಿವೆ ಮತ್ತು 16, 32 ಸೇಬುಗಳು ಮರದ ಮೇಲಿವೆ.
- ಸಿ) (ಸಿ) 1 ಸೇಬು ಬಿದ್ದಿದೆ ಮತ್ತು 130 ಸೇಬುಗಳು ಮರದ ಮೇಲಿವೆ.
- ಡಿ) (ಡಿ) 1 ಸೇಬು ಬಿದ್ದಿದೆ ಮತ್ತು 128 ಸೇಬುಗಳು ಮರದ ಮೇಲಿವೆ.