


ಕಾಡುನ ಬಿಲ್ಲು

A ಈ ನಾಣ್ಯಗಳನ್ನು
ವೃತ್ತಾಕಾರವಾಗಿ ಜೋಡಿಸಿ



ಇಲ್ಲಿ ಒಟ್ಟು ಆರು ನಾಣ್ಯಗಳಿವೆ.
ಇವುಗಳನ್ನು ಜೋಡಿಸಿ ಒಂದು
ವೃತ್ತವನ್ನು ನಿರ್ಮಿಸಿ
ನೋಡೋಣ..

C ಗುಂಪಿಗೆ ಸೇರದವನ್ನು ಹೊರಗೆ ಹಾಕಿ

ಕೆಳಗೆ ಕೊಟ್ಟಿರುವ ಚಿತ್ರಗಳಲ್ಲಿ ಗುಂಪಿಗೆ ಸೇರದೇ
ಇರುವುದನ್ನು ಪ್ರತ್ಯೇಕಿಸಿ.

1

2

3



4

5



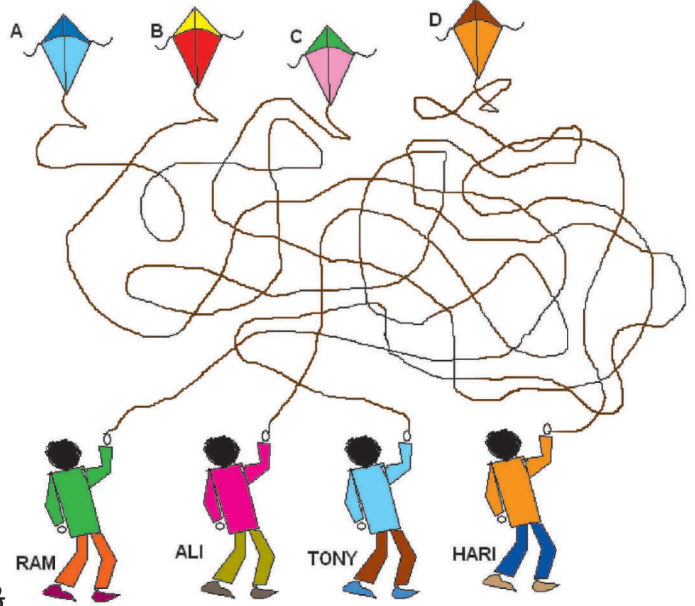
E ಈ ಪ್ರಶ್ನೆಗೆ ಉತ್ತರಿಸುವಿರಾ?

ಟಿಪೋ ವಾರದ ದಿನಗಳಲ್ಲಿ ಮಾರ್ಕೆಟ್‌ವರೆಗೆ
ನಡೆಯಲು ತೆಗೆದುಕೊಳ್ಳುವ ಸಮಯ ಒಂದು
ಗಂಟೆ 15 ನಿಮಿಷ. ಆದರೆ ಭಾನುವಾರ ಈತ ಬರೀ
75 ನಿಮಿಷಗಳಲ್ಲಿ ಈ ಸ್ಥಳವನ್ನು ಕ್ರಮಿಸುತ್ತಾನೆ.
ಅದು ಹೇಗೆ..? ಊಹಿಸಿ ನೋಡೋಣ.



B ಗಾಳಿಪಟ ಮೋಡಿ..!

ಇಲ್ಲಿರುವ ನಾಲ್ಕು ಗಾಳಿಪಟಗಳಲ್ಲಿ ಯಾರು ಯಾವುದನ್ನು ಹಾರಿಸುತ್ತಿದ್ದಾರೆ..?



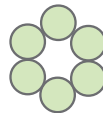
D ಸುಡೋಕು

ಇಲ್ಲಿ ನೀಡಿರುವ ಸುಡೋಕು ಆಟದಲ್ಲಿ
ನೀವು ಮಾಡಬೇಕಾದ್ದೆಷ್ಟು.
ಮೇಲಿನಿಂದ ಕೆಳಗೆ ಮತ್ತು ಎಡದಿಂದ
ಬಲಕ್ಕೆ ಒಂದರಿಂದ ಆರವರೆಗಿನ
ಅಂಕಿ ಮಾತ್ರ ಬಳಸಬೇಕು.

5		6			
				5	1
6					
		1		4	6
1	2				
				2	4

ಉತ್ತರಗಳು

3	6	5	1	2	4
1	2	4	6	5	3
2	5	1	3	4	6
6	4	3	2	1	5
4	3	2	5	6	1
5	1	6	4	3	2



15 ನಿಮಿಷದ ಒಂದು ಸುಡೋಕು ಆಟವನ್ನು ನೀವು ಮಾಡಬೇಕು.
ಉತ್ತರಿಸಿ.
ಉತ್ತರಿಸಿ.
ಉತ್ತರಿಸಿ.
ಉತ್ತರಿಸಿ.
ಉತ್ತರಿಸಿ.
ಉತ್ತರಿಸಿ.