

ಕಾಡುನ ಬಿಲ್ಲು

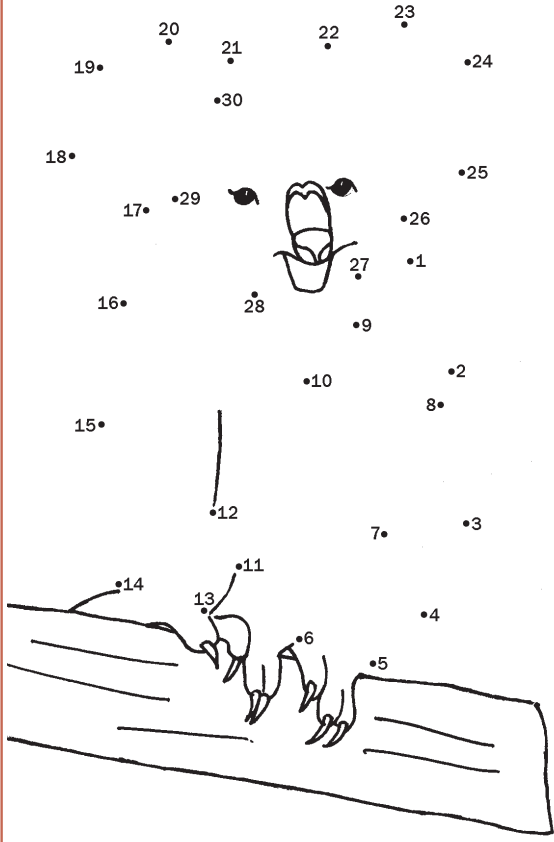
A ಬುದ್ಧಿಗೆ ಗುದ್ದು

1. ಒಂದು ಕಪ್ ಮತ್ತು ಸಾಸರ್ ಎರಡೂ 12 ಗ್ರಾಂ ತೂಗುತ್ತದೆ. ಸಾಸರ್‌ನ ಎರಡರಷ್ಟು ತೂಕ ಕಪ್ ಒಳಗೊಂಡಿದೆ. ಹಾಗಾದರೆ ಸಾಸರ್‌ನ ತೂಕ ಎಷ್ಟು ಎಂದು ಹೇಳಬಲ್ಲೀರಾ..?
2. ಇಬ್ಬರು ತಂದೆ ಮತ್ತು ಇಬ್ಬರು ಮಕ್ಕಳು ಒಂದು ಕೆಫೆಗೆ ಹೋದರು. ಒಟ್ಟು ಬಿಲ್ 60 ರೂಪಾಯಿ ಬಂತು. ಪ್ರತಿಯೊಬ್ಬರೂ ಒಂದೇ ಸಮ ಖರ್ಚು ಮಾಡಿದರು. ಹಾಗಾದರೆ ಒಬ್ಬೊಬ್ಬರೂ ಎಷ್ಟೆಷ್ಟು ಖರ್ಚು ಮಾಡಿದರು..?





C ಈ ಪ್ರಾಣಿ ಯಾವುದು?

ಚುಕ್ಕೆಗಳನ್ನು ಸೇರಿಸಿ, ಬಣ್ಣ ಹಾಕಿ. ಇದರೊಳಗೆ ಅಡಗಿರುವ ಪ್ರಾಣಿ ಯಾವುದು? (ಈ ಪ್ರಾಣಿ ಆಸ್ಟ್ರೇಲಿಯದಲ್ಲಿ ಜೀವಿಸುತ್ತದೆ)



B ಮರಿ ಆನೆಗೆ ದಾರಿ ತೋರಿಸಿ

ಆನೆ ಮರಿಗೆ ತುಂಬ ಹಸಿವೆಯಂತೆ. ಅದು ಬಾಳೆಹಣ್ಣು ತಿನ್ನ ಬೇಕು, ಅದು ಹೋಗುವುದು ಹೇಗೆ..? ದಾರಿ ತೋರಿಸಿ ನೋಡೋಣ..



D ಸಂಖ್ಯಾ ಸ್ವಾರಸ್ಯ..!

ಇಲ್ಲಿ ಬಿಟ್ಟು ಹೋದ ಸಂಖ್ಯೆಗಳನ್ನು ತುಂಬಿರಿ.

90	75	15
?	?	?
45	10	20

ಉತ್ತರಗಳು

- 1.) 1. 4 ಗ್ರಾಂ.
2. ತಲಾ 20 ರೂಪಾಯಿ; ಅವರು ಆಜ್ಞೆ.
- 3.) ಕೋಲಾಂ ಕರಡಿ
- 4.) 5